





هزارگان

صدگان

دهگان

یکان










هزارگان

صدگان

دهگان

یکان

حزائرمان	مدمان	دهمن	يكان
			

تاج هزار



ضرب عدد ٦



$$1 \times 6 = 6$$

۱ دسته ی ۶ تایی می شود ۶ تا

$$2 \times 6 = 12$$

۲ دسته ی ۶ تایی می شود ۱۲ تا

$$3 \times 6 = 18$$

۳ دسته ی ۶ تایی می شود ۱۸ تا

$$4 \times 6 = 24$$

$$5 \times 6 = 30$$

$$6 \times 6 = 36$$

$$7 \times 6 = 42$$

$$8 \times 6 = 48$$

$$9 \times 6 = 54$$

$$10 \times 6 = 60$$

فعالیت کلاسی



۱ زیبا ۱۲ ساعت از روز جمعه را به مطالعه‌ی درس ریاضی و فارسی اختصاص داده بود. اگر به مدت ۹ ساعت فارسی

مطالعه کرده باشد، چند ساعت ریاضی خوانده است؟

$$۱۲ - ۹ = ۳$$

همان عدد

۲ عددی را به ۱۵ اضافه می‌کنیم. از حاصل ۱۵ تا کم می‌کنیم، چه عددی به دست می‌آید؟ چرا؟

$$\boxed{۲} + ۱۵ - ۱۵ = \boxed{۲}$$

۳ عددی هستیم که اگر به من ۷ تا اضافه شود و حاصل با ۱ جمع شود، عدد دو رقمی ۲۲ ساخته می‌شود. من چه عددی

هستم؟

$$\boxed{۶} + ۷ + ۱۰ = ۲۳$$

۴ از ۱۵ - ۲ چند واحد برداریم تا عدد ۱۰۰۰ به دست آید؟

$$۲۰۱۵ - \boxed{۱۰۱۵} = ۱۰۰۰$$

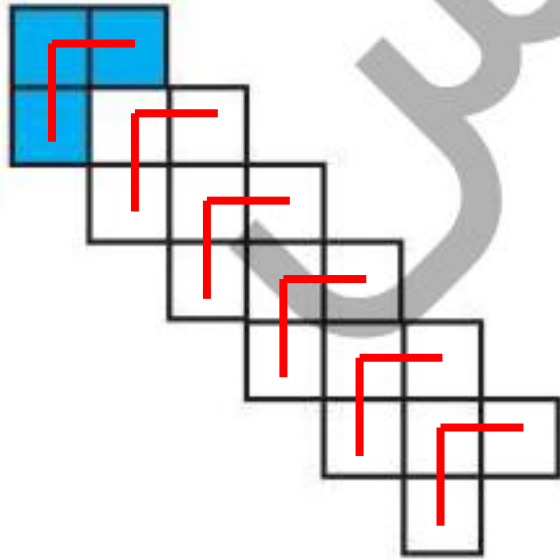
۵ چه عددی را به عدد ۹۵۰ اضافه کنیم تا کوچک‌ترین عدد چهار رقمی ساخته شود؟

$$\boxed{۵۰} + ۹۵۰ = ۱۰۰۰$$

۶

شکل زیر را با توجه به دسته‌بندی نمونه رنگ آمیزی کرده و جاهای خالی را پر کن.

.....۶..... دسته‌ی۳..... تایی می‌شود۱۸.....




ضرب و تقسیم ➔ فصل چهارم


تمرین




۱ شکل‌ها را مطابق نمونه دسته‌بندی کرده و سپس جاهای خالی را تکمیل کن و به عبارت مربوط به آن وصل کن.



۵ دسته‌ی ۲ تایی می‌شود ۱۰ تا



۷ دسته‌ی ۴ تایی می‌شود ۲۸ تا



۶ دسته‌ی ۳ تایی می‌شود ۱۸ تا

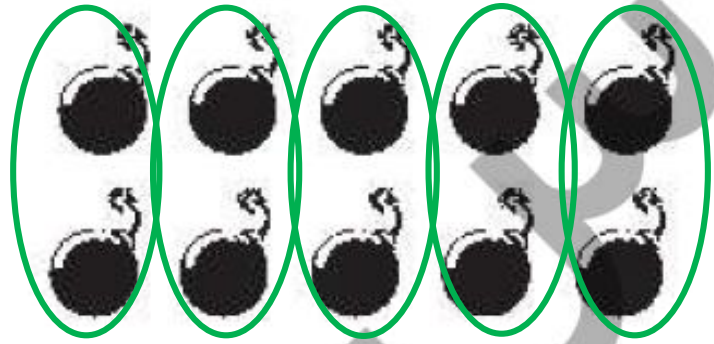
۲ درستی و نادرستی هر عبارت را مشخص کن.

الف: ۸ دسته‌ی ۳ تایی می‌شود ۲۵ تا.

ب: اگر از من ۲۲۳ واحد کم کنی، حاصل می‌شود ۷۰ و من عدد ۲۹۳ هستم.

$$293 - 223 = 70$$

۲ شکل‌های زیر را در ۵ دسته تقسیم‌بندی کن و عبارت جمع مربوط به آن را بنویس.



$$2 + 2 + 2 + 2 + 2 = 10$$

۵ دسته‌ی ۲ تایی می‌شود ۱۰

۴ من چه عددی هستم؟ اگر به من ۲۰۰ تا اضافه کنی ۷ صدتایی و ۵۹ یکی می‌شوم.

$$559 + 200 = 759$$



۵ اگر ۵ واحد به من اضافه کنی ۲۰ واحد از ۲ صدتایی بیش تر می شوم، من چه عددی هستم؟

$$\boxed{315} + 5 = 320$$

۶ در عددی چهار رقمی ۳۷۲۹، مجموع رقم‌ها برابر ۲۱ است، مجموع دهگان و هزارگان را بنویس.

$$3 + 2 = 5$$



$$3 + 7 + \boxed{2} + 9 = 21$$

دهگان هزارگان

۷ اگر از من ۱۴۲ واحد کم کنی، ۸۰۰۰ خواهیم شد، من چه عددی هستم؟

$$\boxed{8142} - 142 = 8000$$

۸ پدرام عددی دو رقمی نوشت، بعد این عدد را با ۱۹ جمع کرد و حاصل جمع، ۷۲ شد. عددی که او نوشت چه بود؟

۹۱ (۴)

۲۷ (۳)

۵۳ (۲)

۸۲ (۱)

$$\boxed{53} + 19 = 72$$

