

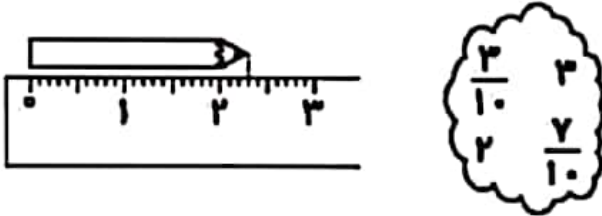
نام خانوادگی: .....

نام: .....

شماره ملی: .....

شعبه: ..... کلاس: .....

۴) با توجه به تصویر و اعداد داده شده، جاهای خالی را پر کنید.

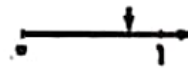


طول مداد ..... سانتی‌متر و ..... سانتی‌متر است.

طول مداد ..... سانتی‌متر کم دارد تا به ۳ سانتی‌متر برسد.

۵) به چند حالت می‌توانیم با سکه‌های ۵۰ و ۱۰۰ ریالی، ۲۰۰ ریال درست کنیم؟

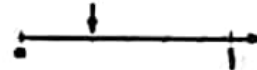
۱) محورها و شکل‌ها را به کسر مربوط به خودش وصل کنید.



$$\frac{2}{6}$$



$$\frac{3}{4}$$



$$\frac{2}{3}$$



$$\frac{1}{3}$$

۶) برای اندازه‌گیری جرم یک هندوانه آن را در یک کفه‌ی ترازو و در کفه‌ی دیگر آن، یک وزنه‌ی ۵ کیلوگرمی، دو وزنه‌ی ۵۰۰ گرمی و یک وزنه‌ی ۱۰۰ گرمی قرار داده‌ایم. جرم هندوانه چند کیلوگرم و چند گرم است؟

۲) جملات درست را با علامت ✓ و نادرست را با ✗ مشخص کنید.


الف) برای رسم دایره، دهانه‌ی پرگار را به اندازه‌ی قطر باز می‌کنیم.

ب) برای رسم دایره سوزن پرگار در مرکز قرار می‌گیرد.

پ) شعاع دایره، خط تقارن دایره است.

ت) اگر شعاع دایره ۶ سانتی‌متر باشد، قطر آن ۱۲ سانتی‌متر است.

۷) کشاورزی  $\frac{2}{3}$  زمین مستطیل شکلش را گندم و  $\frac{1}{3}$  باقی‌مانده‌ی آن را جو کاشت. با رسم شکل بگویید:



الف) چه کسری از زمین گندم کاشته شده است؟ .....

ب) چه کسری از زمین زیر کشت رفته است؟ .....

۳) گزینه‌ی صحیح را انتخاب کنید.

الف) یک دلار قندستان به اندازه‌ی ۵۰۰ ریال ارزش دارد. ۴ دلار قندستان چند ریال ارزش دارد؟

۱۰۰۰ (۲)

۲۰۰۰ (۱)

۱۵۰۰ (۴)

۲۵۰۰ (۳)

ب) در جای خالی چه عددی قرار می‌گیرد؟

۱۴۰۰، ۲۵۰۰، ۳۶۰۰،

۴۶۰۰ (۲)

۴۵۰۰ (۱)

۵۷۰۰ (۴)

۴۷۰۰ (۳)