
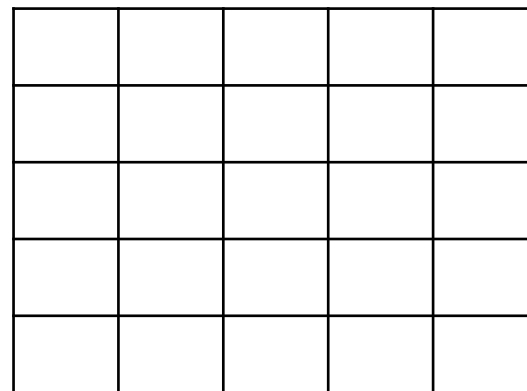


۱) شکل های زیر را با توجه به عدد های داده برای هر شکل دسته بندی کنید . با نوشتن یک تقسیم، تعداد دسته ها را پیدا کنید.




۴

$$\underline{\quad} \div \underline{\quad} = \underline{\quad}$$



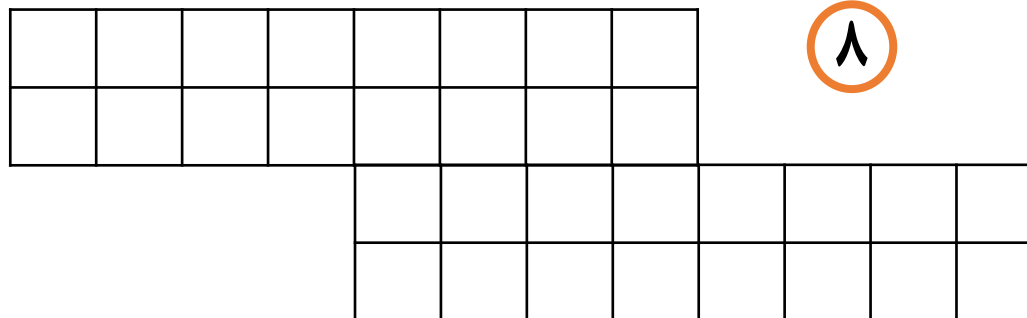
۵

$$\underline{\quad} \div \underline{\quad} = \underline{\quad}$$



۳

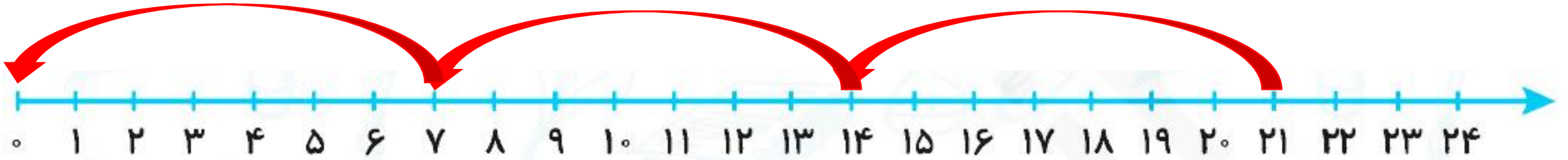
$$\underline{\quad} \div \underline{\quad} = \underline{\quad}$$



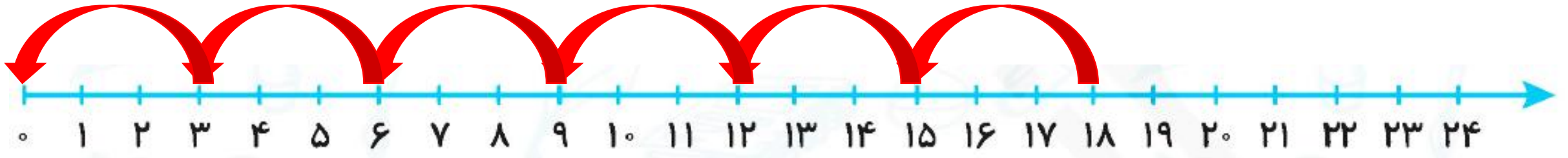
۸

$$\underline{\quad} \div \underline{\quad} = \underline{\quad}$$

۲) برای محورهای زیر تقسیم بنویسید.



$$\text{---} \div \text{---} = \text{---}$$



$$\text{---} \div \text{---} = \text{---}$$

(۳) در یک مسجد ۴۰ نفر در نماز جماعت شرکت می کنند. اگر در هر صف ۸ نفر بایستد در این مسجد چند صف نماز تشکیل می شود؟

(۴) مادر محسن خیاطی می کند. او به هر پیراهن ۶ دکمه می دوزد. ۳۰ دکمه را می تواند به چند پیراهن بدوزد؟

(۵) علی ۴ بسته ی ۶ تایی بیسکویت و مهدی ۶ بسته ۶ تایی بیسکویت دارند. مهدی و علی روی هم چند بسته بیسکویت دارند؟

(۶) آموزگار ۱۴ جایزه داشت و آن ها را بین ۷ نفر تقسیم کرد به هر کدام چند جایزه رسیده است؟

(۷) محمود روزی سه صفحه کتاب می خواند او پس از ۶ روز چند صفحه کتاب خوانده است؟

۲- تعداد شکلات‌ها در دایره‌ها نوشته شده است. با توجه به تعداد بشقاب‌ها، شکلات‌ها را به تعداد مساوی تقسیم کنید. تعداد شکلات‌های هر بشقاب را با یک تقسیم به دست آورید.

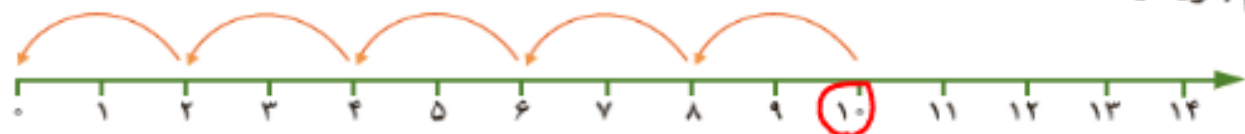


$$18 \div 3 = 6$$

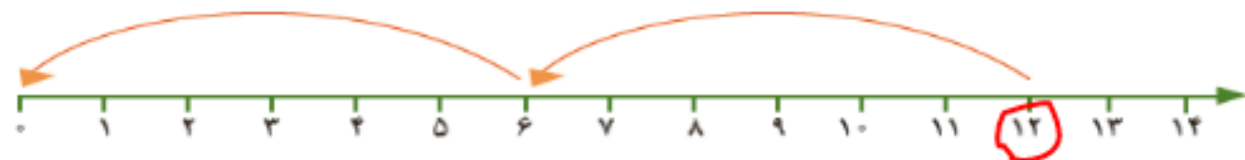


$$12 \div 4 = 3$$

۳- برای محورهای زیر یک تقسیم بنویسید.



تعداد پرش $\rightarrow 10 \div 2 = 5$



تعداد پرش $\rightarrow 12 \div 6 = 2$

۴- با نوشتن یک ضرب، حاصل تقسیم را به دست آورید.

$$24 \div 6 = 4$$

$$4 \times 6 = 24$$

$$30 \div 5 = 6$$

$$6 \times 5 = 30$$

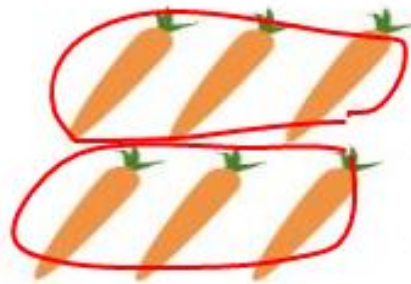
$$48 \div 6 = 8$$

$$8 \times 6 = 48$$

تمرین




۱- هر شکل را دسته‌بندی کنید و برای آن یک ضرب و دو تقسیم بنویسید.



$$2 \times 3 = 6$$

$$6 \div 2 = 3$$

$$6 \div 3 = 2$$



$$4 \times 7 = 28$$

$$28 \div 4 = 7$$

$$28 \div 7 = 4$$

۲- مادر محسن خیاطی می‌کند. او به هر پیراهن ۵ دکمه می‌دوزد. ۱۵ دکمه را به چند پیراهن می‌دوزد؟



$$15 \div 5 = 3$$

۳- در یک کارتن ۸ جعبه استکان وجود دارد. در هر جعبه ۶ استکان جا می‌گیرد. در این کارتن چند استکان هست؟



$$8 \times 6 = 48 \text{ استکان}$$

۴- سارا از گل فروشی ۱۰ شاخه گل خریده است. او می‌خواهد این گل‌ها را به‌طور مساوی در ۲ گلدان بگذارد. در هر گلدان چند شاخه گل باید بگذارد؟



$$10 \div 2 = 5$$

$$14 \div 7 = 2$$

۵- برای تقسیم $14 \div 7$ یک مسئله بنویسید و آن را حل کنید.

علی ۱۴ شکلات دارد. او می‌خواهد شکلات‌ها را بین ۷ نفر از دوستانش تقسیم کند. به هر نفر چند شکلات می‌رسد؟