

علوی

مدارس هزاره سوم



هوش و ریاضی صفحه ی ۳۸

+

تمرینات ضلع های متناظر



آموزگار مریم بهجتی

۱. هجده پسته داریم. چهار جور آنها را دسته بندی کن و ۴ تقسیم برایشان بنویس.



$$\dots \div \dots = \dots$$



$$\dots \div \dots = \dots$$



$$\dots \div \dots = \dots$$



$$\dots \div \dots = \dots$$

۱. هجده پسته داریم. چهار جور آنها را دسته بندی کن و ۴ تقسیم برایشان بنویس.



$$۱۸ \div ۳ = ۶$$



$$۱۸ \div ۶ = ۳$$

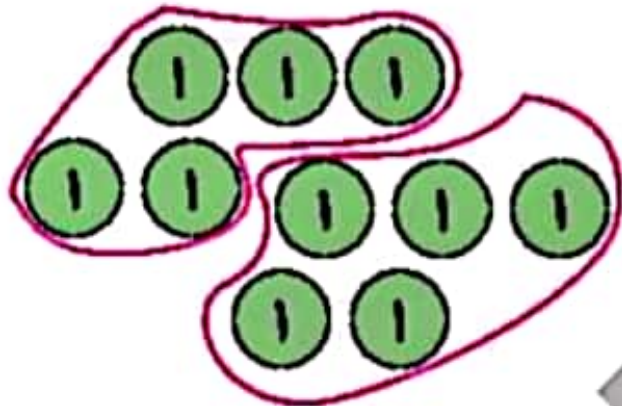


$$۱۸ \div ۹ = ۲$$

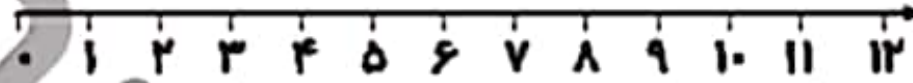


$$۱۸ \div ۲ = ۹$$


۲. مانند نمونه انجام بده.



$$10 \div 5 = 2$$



$$12 \div 4 = \dots\dots$$

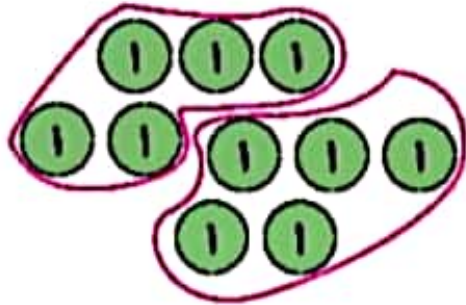


$$\dots \div \dots = \dots$$



$$10 \div 3 = \dots$$


۲. مانند نمونه انجام بده.



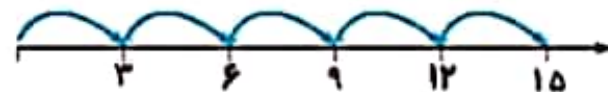
$$10 \div 5 = 2$$



$$12 \div 4 = 3$$



$$20 \div 4 = 5$$



$$15 \div 3 = 5$$

