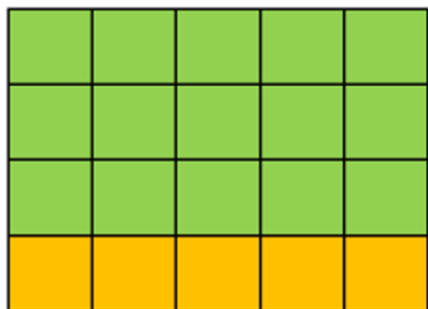




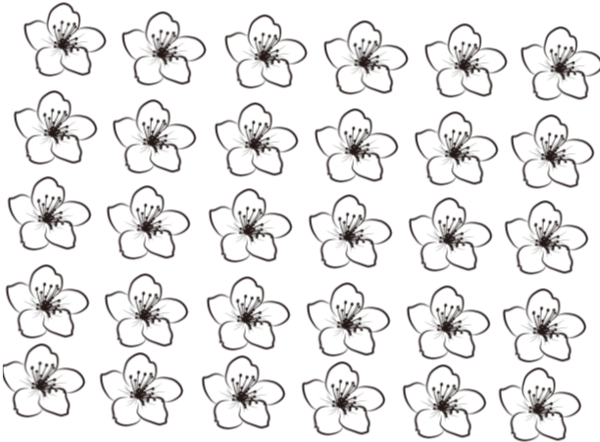
۱- با توجه به شکل تساوی ضرب بنویسید. (مانند تساوی های سوال ۱)




۱- درستی تساوی های زیر را با رسم شکل نشان دهید.



$$7 \times 3 = (4 \times 3) + (3 \times 3)$$



$$5 \times 6 = (1 \times 6) + (4 \times 6)$$



$$6 \times 4 = (2 \times 4) + (4 \times 4)$$