



ایده ای از جشن نوروز

۷ در کلاس سوم مدرسه ما دانش آموزان در ۸ ردیف ۳ تایی و در کلاس دوم در ۶ ردیف ۴ تایی نشسته اند. در کدام کلاس

تعداد دانش آموزان بیش تری داریم؟

$$8 \times 3 = 24$$

$$6 \times 4 = 24$$

تعداد دانش آموزان هر دو کلاس برابرند.

۸ خیاطی برای هر پیراهن مردانه ۶ دکمه لازم دارد. اگر ۵ دکمه اضافه بیاورد و به ۳ پیراهن دکمه دوخته باشد، در کل

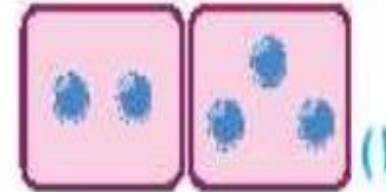

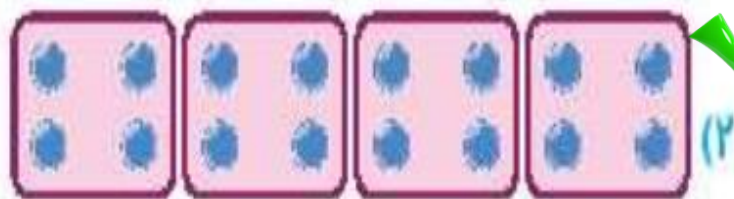
چند دکمه داشته است؟

$$3 \times 6 = 18$$

$$18 + 5 = 23$$



۹ برای کدام شکل زیر می توان ضرب نوشت؟



درون دسته ها باید باهم برابر باشند .

فعالیت کلاسی



جاهای خالی را پر کن.



الف: هر عدد، ضرب در عدد یک، ... خود آن عدد ... می شود.

ب: عدد یک ضرب در هر عدد، ... خود آن عدد ... می شود.



۲ حاصل ضرب بهای زیر را بنویس. (به خاصیت جابه‌جایی ضرب مانند نمونه توجه کن.)

الف: $3 \times 5 = 5 \times 3 = 15$

ب: $6 \times 2 = \dots \times 6 = \dots$

پ: $7 \times 4 = \dots \times 7 = \dots$

ت: $8 \times 1 = \dots \times \dots = \dots$

ث: $9 \times 4 = 4 \times \dots = \dots$

ج: $\dots \times 3 = 3 \times \dots = \dots$

چ: $9 \dots \times 8 = \dots \times 9 = \dots$

ح: $\dots \times \dots = 9 \times 5 = \dots$

۲

زهرة ۷ بسته شکلات ۴ تایی و ۲ بسته شکلات ۳ تایی خریده است. او در مجموع چند شکلات دارد؟

۴

$$(7 \times 4) + (2 \times 3) = 28 + 6 = 34$$

ضرب عدد ۵

$1 \times 5 = 5$

$2 \times 5 = 10$

$3 \times 5 = 15$

$4 \times 5 = 20$

$5 \times 5 = 25$

$6 \times 5 = 30$

$7 \times 5 = 35$

$8 \times 5 = 40$

$9 \times 5 = 45$