




۱

با توجه به شکل زیر دو ضرب و دو تقسیم بنویس.



$$\begin{aligned} 3 \times 6 &= 18 \\ 6 \times 3 &= 18 \\ 18 \div 3 &= 6 \\ 18 \div 6 &= 3 \end{aligned}$$

۲ هر دست قاشق ۶ عدد است. برای یک مهمانی ۳۶ نفره به چند دست قاشق نیاز داریم؟

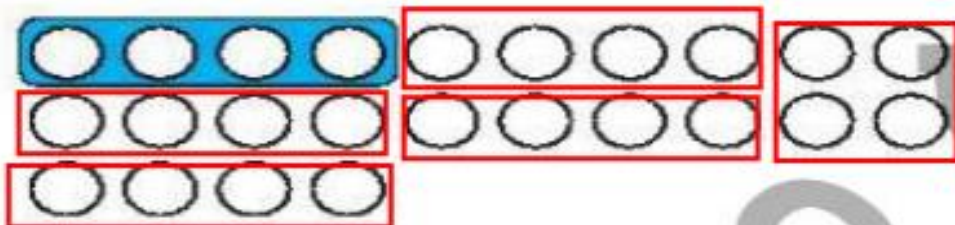
۲

$$36 \div 6 = 6$$

۳ مانند نمونه با ادله‌ی دسته‌بندی‌ها، جاهای خالی را با عدد مناسب کامل کن.

۳

الف:



$$24 \div \dots = \dots$$

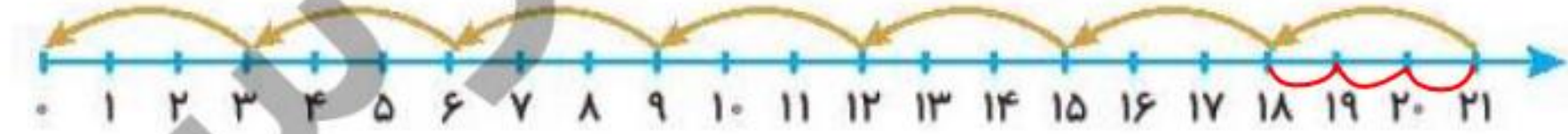
ب:



$$18 \div \dots = \dots$$


۴ برای محورهای زیر تقسیم بنویس.

الف:



$$\frac{21}{3} = 7$$

ب:



$$\frac{21}{7} = 3$$


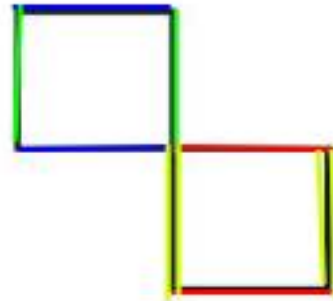

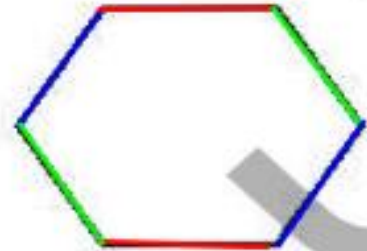


۲ درستى  و نادرستى  هر عبارت را مشخص کن.

الف: با ۳۶ نفر می‌توان ۴ تیم ۹ نفری فوتبال تشکیل داد.

ب: با ۴۵ دکمه می‌توان ۴ لباس ۵ دکمه‌ای را دکمه‌دار کرد.

۲ در شکل‌های زیر خطوط موازی را رنگی کن.



۴ می‌خواهیم ۲۰ کتاب را بین ۵ نفر تقسیم کنیم. به هر نفر چند کتاب می‌رسد؟

.....

.....

.....

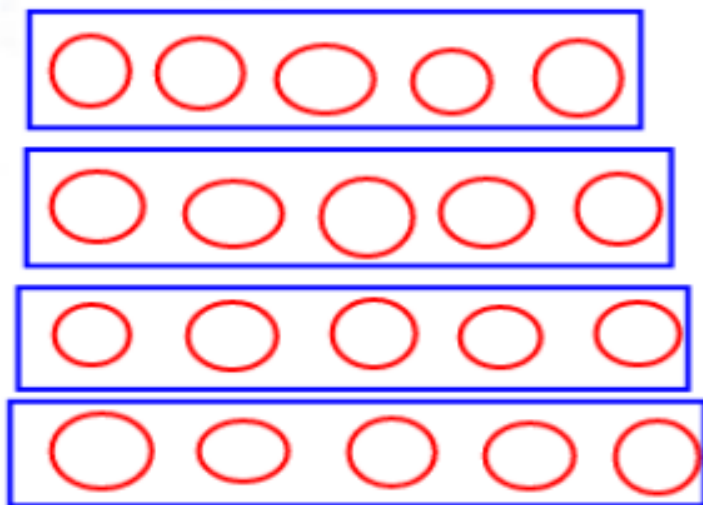


# علوی

۵  $64 \div 8 = 8$  در این عبارت عددی، نشان‌دهنده یک عدد است.  $\bigcirc$  برابر چه عددی است؟

۸

$$20 \div 5 = 4$$



۶ برای تقسیم داده شده شکل رسم کن و بعد یک مسئله بنویس.

میانه ۲ سیب دارد، اولی ۵

سیب را در یک جعبه می‌نذارند.

میانه چند جعبه سیب دارد؟

۷ محمد در ۴ ساعت ۲۲ صفحه کتاب می‌خواند. او در ۶ ساعت چند صفحه کتاب می‌خواند؟

$$22 \div 4 = 5 \text{ روزه ساعت ۸ صفحه}$$

$$6 \times 5 = 30 \text{ صفحه در ۶ ساعت}$$

۸ گریه می‌گوید: «طول دمم ۱۲ سانتی‌متر به اضافه نصف دوازده است». طول دم گریه چقدر است؟

$$12 + 6 = 18 \text{ س}$$

$$12 \div 2 = 6$$

۹ شما باید روی هر یک از عددهای ستون «الف»، چه کاری انجام دهید تا عدد مقابل آن در ستون «ب» به دست آید؟

ستون «الف»	ستون «ب»
۱۰	۲
۱۵	۳
۲۵	۵
۵۰	۱۰

۱۰ در کلاس سارا تعداد دختران ۲ برابر تعداد پسران است. تعداد پسران در کلاس ۸ نفر است. در این کلاس چند

دانش‌آموز وجود دارد؟