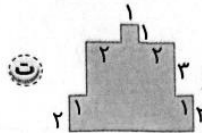
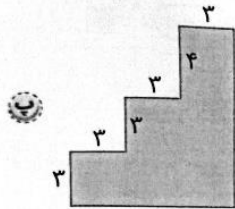
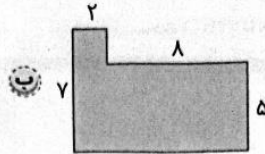



مساحت شکل‌های زیر را پیدا کنید. (اندازه‌ها به سانتی‌متر داده شده‌اند).

۱



مساحت قسمت رنگی را در شکل‌های زیر پیدا کنید. (اندازه‌ها به سانتی‌متر هستند).

۲

