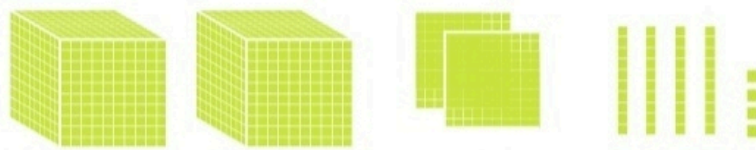
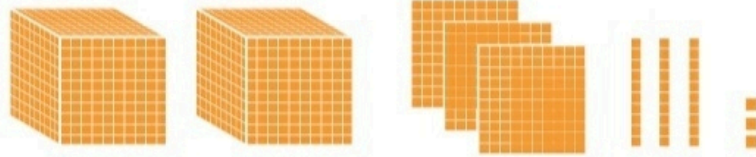





با توجه به شکل‌ها، جمع‌ها را انجام دهید یا برای جمع‌های داده شده شکل بکشید.

$$\begin{array}{r} 2333 \\ + 2244 \\ \hline 4577 \end{array}$$




- ★ 1000
- 100
- ♡ 10
- 1

$$\begin{array}{r} 1357 \\ + 1391 \\ \hline 2748 \end{array}$$



$$\begin{array}{r} 2013 \\ + 1020 \\ \hline 3033 \end{array}$$



کامل کن

محیط مستطیل را به دو صورت به دست آورید.



$$\begin{aligned} \text{محیط مستطیل} &= 4 + 3 + 4 + 3 = 14 \\ \text{محیط مستطیل} &= (2 \times 4) + (2 \times 3) = 8 + 6 = 14 \end{aligned}$$



$$\begin{aligned} \text{محیط مستطیل} &= 6 + 4 + 6 + 4 = 20 \\ \text{محیط مستطیل} &= (2 \times 6) + (2 \times 4) = 12 + 8 = 20 \end{aligned}$$

تمرین



۱- در یک باغ ۱۱۴۳ درخت پرتقال و ۱۸۵ درخت نارنگی کاشته شده است. این باغ چند درخت دارد؟

$$\begin{array}{r} 1143 \\ + 185 \\ \hline 1328 \end{array}$$

۱۳۲۸ درخت دارد.



$$\begin{array}{r} 1700 \\ + 4350 \\ \hline 6050 \end{array}$$

۲- هاجر ۱۷۰۰ تومان و سارا ۴۳۵۰ تومان پول دارند. پول این دو نفر روی هم چقدر است؟

۶۰۵۰ تومان پول دارند.

۳- در یک شهر ۳۸۴۵ دانش آموز پسر و ۳۷۵۱ دانش آموز دختر درس می خوانند. این شهر چند دانش آموز دارد؟

$$\begin{array}{r} 3845 \\ + 3751 \\ \hline 7596 \end{array}$$

۷۵۹۶ دانش آموز دارد.

۴- حاصل جمع ها را به دست آورید.

$$\begin{array}{r} 4030 \\ + 2107 \\ \hline 6137 \end{array}$$

$$\begin{array}{r} 4789 \\ + 1351 \\ \hline 6140 \end{array}$$

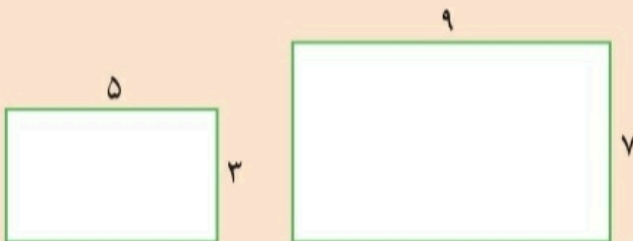
$$\begin{array}{r} 7025 \\ + 1801 \\ \hline 8826 \end{array}$$

$$\begin{array}{r} 6002 \\ + 1899 \\ \hline 7901 \end{array}$$



محیط مستطیل ها را با نوشتن رابطه ی آن ها به دست آورید.

کامل کن



$$\begin{aligned} \text{محیط مستطیل} &= (2 \times 5) + (2 \times 3) = 10 + 6 = 16 \\ \text{محیط مستطیل} &= (2 \times 9) + (2 \times 7) = 18 + 14 = 32 \end{aligned}$$

تفریق در جدول ارزش مکانی

فعالیت



۱- حمید ۶۶۴۷ ریال در قلک خود پول داشت. او ۲۳۲۵ ریال از پول هایش برداشت. حالا چقدر پول دارد؟

ه	ص	د	ی
۶	۶	۴	۷
-۲	۳	۲	۵
۴	۳	۲	۲



- چند سکه‌ی ۱ ریالی دارد؟ ۲
- چند سکه‌ی ۱۰ ریالی دارد؟ ۲
- چند سکه‌ی ۱۰۰ ریالی دارد؟ ۳
- چند سکه‌ی ۱۰۰۰ ریالی دارد؟ ۴

۲- حمید ۴۳۲۲ ریال در قلکش داشت. این هفته ۱۱۵۰ ریال از آن برداشت و خرج کرد. حالا چقدر پول دارد؟

ه	ص	د	ی
۴	۳	۳	۲
-۱	۱	۵	۰
۳	۱	۷	۲

- حمید چند سکه‌ی ۱ ریالی دارد؟ ۲
- آیا می‌تواند از سکه‌های ۱۰ ریالی خود ۵ تا بردارد؟ نه
- اگر ۱ سکه‌ی ۱۰۰ ریالی را با ۱۰ سکه‌ی ۱۰ ریالی عوض کند، چند سکه‌ی ۱۰ ریالی خواهد داشت؟ ۱۲ سکه
- حالا ۵ تا از سکه‌های ۱۰ ریالی را برمی‌دارد؛ چند سکه‌ی ۱۰ ریالی می‌ماند؟ ۷
- با توجه به اینکه یک سکه‌ی ۱۰۰ ریالی را برای تعویض با سکه‌های ۱۰ ریالی داده است، چند سکه‌ی ۱۰۰ ریالی برایش می‌ماند؟ ۱
- چند سکه‌ی ۱۰۰۰ ریالی دارد؟ ۳

۳- با توجه به شکل، تفریق را در جدول ارزش مکانی انجام دهید.

ه	ص	د	ی
۳	۳	۴	۴
-۲	۱	۳	۲
۱	۲	۱	۲

