

ارزشیابی فصل اول



تاریخ:

نام و نام خانوادگی:

۱. الگوهای زیر را کامل کن.

الف) ۲۵۰، ۳۰۰، ۳۵۰،

ب) ۹۱۰، ۸۱۰، ۷۱۰،

۲. کدام دسته از عددهای زیر به ترتیب از چپ به راست در جاهای خالی قرار می‌گیرند؟

۱۰۰، ۱، ۹۹، ۲، ۹۸،

(۲) ۳ و ۹۷

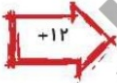
(۱) ۹۶ و ۳

۳. شکل زیر را دسته‌بندی کرده و با نوشتن یک عبارت جمع، مجموع تعداد دایره‌ها را به دست بیاور.



۴. جاهای خالی را با عددهای مناسب پر کن.

۸



۲۱



۱۶

۵. صورت گسترده‌ی یک مکعب را بکش و بنویس با چند مربع می‌توان یک مکعب درست کرد؟

.....

.....

.....

.....



219/25

علوی

ارزشیابی فصل اول

تاریخ:

نام و نام خانوادگی:

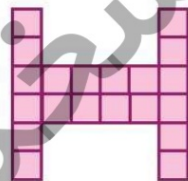
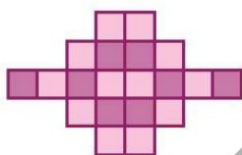
۶. اگر در ساعت ۷ بعدازظهر خورشید غروب کند و طول روز ۱۴ ساعت باشد، حساب کن طلوع خورشید در چه ساعتی از صبح بوده است؟

.....

۷. تئاتری ساعت ۱۱ صبح شروع و در ساعت ۲ بعدازظهر به پایان می‌رسد. نمایش این تئاتر چند ساعت طول کشیده است؟

.....

۸. خط یا خط‌های تقارن شکل‌های زیر را رسم کرده و تعداد مربع‌های هر شکل را به دست بیاور.



۹. کدام یک از شکل‌های زیر بیشترین خط تقارن را دارد؟ آنها را رسم کن.



(۴)



(۳)



(۲)



(۱)

۱۰. کارهای آرزو در جدول زیر مشخص شده، آن را کامل کن.

استراحت	حمام	شروع مطالعه
.....	۶ و ۳۰ دقیقه بعد
بعد از ظهر	از ظهر	بعد از ظهر
۱۹ و ۴۵ دقیقه	۱۷

ارزشیابی فصل اول



تاریخ:

نام و نام خانوادگی:

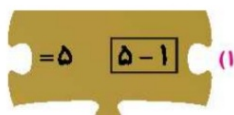
۱۱. اتوبوس تهران - شیراز ساعت ۱۹ از تهران حرکت می‌کند. حرکت این اتوبوس ساعت بعد از ظهر است.

۱۲. در شمارش ۷ تا ۷ تا عدد قبل از ۲۹ چه عددی می‌باشد؟

۱۳. چند مکعب از شکل سمت چپ برداریم تا به شکل سمت راست برسیم؟



۱۴. کدام تکه را بین این دو تکه بگذاریم تا تساوی‌ها درست بشوند؟



$$= 3 \quad (4-2) \quad (2)$$

$$= 5 \quad (5-1) \quad (1)$$

$$= 4 \quad (1+1) \quad (4)$$

$$= 5 \quad (1+2) \quad (3)$$

$$= 5 \quad (1+1) \quad (5)$$



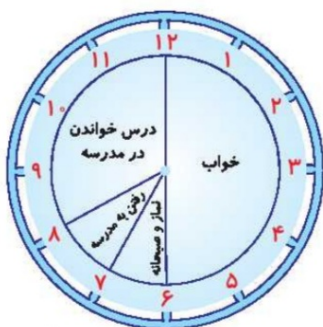
ارزشیابی فصل اول

نام و نام خانوادگی: تاریخ:

۱. شکل زیر، کارهای روزانه برنا را نشان می‌دهد. مشخص کن به ترتیب از راست به چپ:

(الف) او چند ساعت در مدرسه بوده است؟

(ب) او چند ساعت در منزل مطالعه کرده است؟



جدول خودارزیابی

ملاک

معیار

خیلی خوب خوب قابل قبول نیاز به تلاش

<input type="radio"/>	<input type="radio"/>	<input type="radio"/>	<input type="radio"/>
<input type="radio"/>	<input type="radio"/>	<input type="radio"/>	<input type="radio"/>
<input type="radio"/>	<input type="radio"/>	<input type="radio"/>	<input type="radio"/>
<input type="radio"/>	<input type="radio"/>	<input type="radio"/>	<input type="radio"/>
<input type="radio"/>	<input type="radio"/>	<input type="radio"/>	<input type="radio"/>
<input type="radio"/>	<input type="radio"/>	<input type="radio"/>	<input type="radio"/>
<input type="radio"/>	<input type="radio"/>	<input type="radio"/>	<input type="radio"/>
<input type="radio"/>	<input type="radio"/>	<input type="radio"/>	<input type="radio"/>

- می‌توانم رابطه‌ی لگوه‌های عددی و هندسی را پیدا کنم و اندازه دهم.
- می‌توانم شکل‌ها را دست‌بندی و برای آن‌ها جمع و الگوی شمارشی بنویسم.
- می‌توانم جمع عددها را با روش‌های مختلف به دست آورم.
- می‌توانم زمان صحیح بعد از ظهر را بیان کنم.
- می‌توانم خط تقارن را رسم کرده و با استفاده از خط تقارن تعداد مربع‌های هر شکل را به دست آورم.
- می‌توانم گسترده مکعب را بکشم.
- می‌توانم با ماشین‌های ورودی و خروجی کار کنم و مقدار ورودی و خروجی را به دست آورم.

