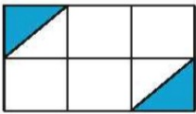
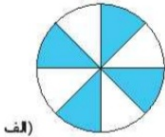


۱. چه کسری از شکل زیر رنگ شده است؟

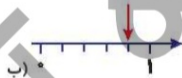


۲. کشاورزی زمین خود را به ۲ قسمت تقسیم کرد و در یک قسمت آن هویج کاشت. سپس یک قسمت باقی مانده را به دو قسمت تقسیم کرد و در یک قسمت آن کاهو کاشت. چه کسری از زمین خالی مانده است؟ (با رسم شکل)

۳. هر شکل چه کسری را نشان می‌دهد؟



(الف)



(ب)



(پ)

۴. هر عدد را روی محور نشان بده.



$\frac{2}{3}$ واحد بعد از عدد ۲

$\frac{1}{4}$ واحد مانده به عدد ۲

۵. با استفاده از پرگار یک دایره به شعاع ۲ سانتی‌متر بکش.

قطر این دایره چند میلی‌متر است؟

ارزشیابی فصل سوم



تاریخ:

نام و نام خانوادگی:

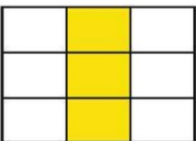
۶. جاهای خالی را پر کن.

(الف) اگر نصف قطر دایره‌ای ۶ سانتی‌متر باشد، شعاع دایره میلی‌متر است.

(ب) پرگار به اندازه‌ی دایره باز می‌شود.

(پ) ساعت یک ربع به ۶ است، چه کسری از ساعت ۵ گذشته است؟

۷. برای این شکل ۲ کسر مساوی بنویس.



==

۸. پدر برنا و درنا به هر کدام از آن‌ها یک مقدار مساوی پول داد. برنا $\frac{1}{4}$ از پول خود و درنا $\frac{1}{5}$ پولش را خرج کرده

است. کدام یک پول بیشتری خرج کرده است؟