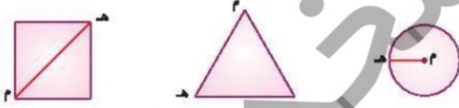



۱. نازنین ۸ کتاب دارد و دوستش ۳ برابر او کتاب دارد. نازنین و دوستش روی هم چند کتاب دارند؟

۲. یک شکل هندسی رسم کن که تعداد ضلع‌ها و قطرهای آن یکی باشد.

۳. در هر شکل پاره‌خط (م‌ه) چه نام دارد؟



۴. مساحت شکل‌های زیر چند سانتی‌متر مربع است؟ (مساحت هر مربع کوچک یک سانتی‌متر مربع در نظر گرفته شود).



۵. در شکل زیر

الف) اندازه بلندترین پاره‌خط چند سانتی‌متر است؟

ب) چند میلی‌متر است؟



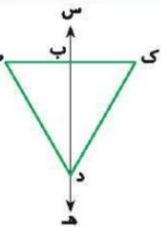
## ارزشیابی فصل پنجم



تاریخ: .....

نام و نام خانوادگی: .....

۶. با توجه به شکل زیر جدول را کامل کن. (نام ببر)



پاره‌خط

۷. محیط شکل زیر را به دست بیاور.

