

۱- با توجه به جدول زیر، نمودار دایره ای آن را رسم کنید.

دور بازی	اول	دوم	سوم	چهارم	پنجم	ششم	هفتم
عدد تا سن	۱	۳	۵	۳	۲	۱	۵



۲- با توجه به چرخنده ی زیر، به سوالات پاسخ دهید.  
 الف) چه کسری سبز و چه کسری قرمز است؟  
 ب) به چه احتمالی در این بازی، رنگ زرد می آوریم؟

۳- عددی چهار رقمی ۵،۳،۴ و صفر بسازید که زوج و بین ۴۰۰۰ و ۵۰۰۰ باشد.

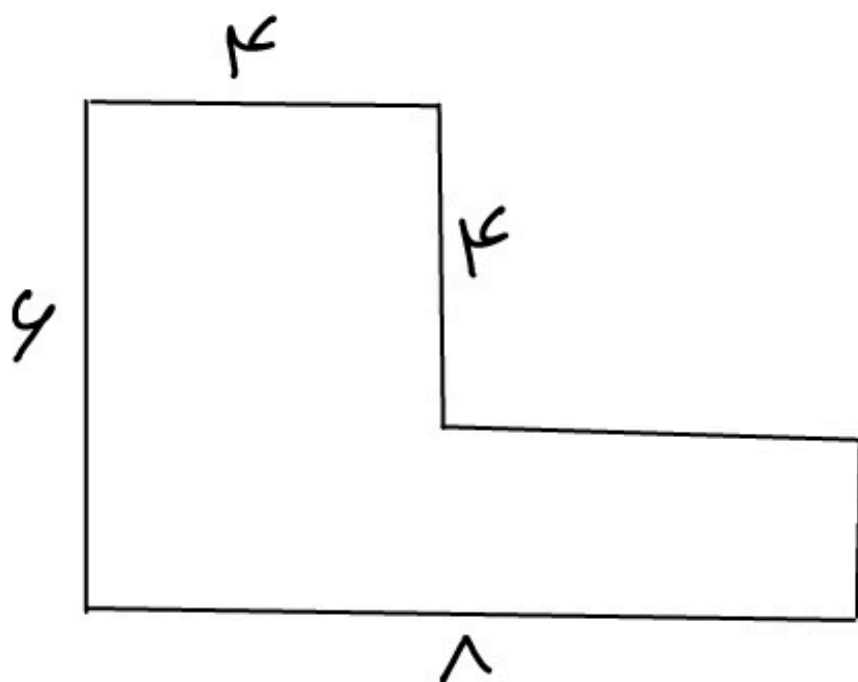
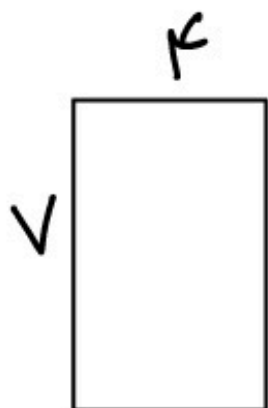
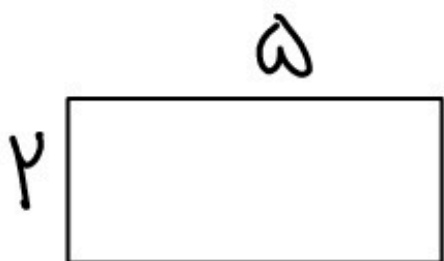
۴- حاصلضرب دو عدد ۳۶ و جمع آن ها ۱۳ است. آن دو عدد چیست؟

۵- رضا ۵۱۲۵ تومان پول دارد. او ۲۳۲۱ تومان کمتر از سارا دارد. سارا چند ریال پول دارد؟

۶- نمودار دایره ای زیر نشان دهنده انواع کوسه های یک خلیج است. اگر تعداد کل کوسه های این خلیج ۶۰ عدد باشد، تعداد هر گونه را به دست آورید.



۷- محیط و مساحت شکل های زیر را به دست آورید.



۸- برای هر گزینه یکی از عبارات های ( به طور حتم اتفاق می افتد، احتمال دارد اتفاق بیفتد، به طور حتم اتفاق نمی افتد) را انتخاب کرده و بنویسید.  
الف) در پاییز، برف می بارد:

ب) کوسه خارج از آب، زنده می ماند:

پ) جدول ضرب را در سوم دبستان یاد می گیریم: