

۱- در جدول زیر تعداد حیوانات یک مزرعه نشان داده شده است. با توجه به اطلاعات داده شده، نمودار دایره ای و ستونی آن را رسم کنید.

تعداد	حیوان
۱۵	مرغ
۵	گاو
۱۵	اردک

۲- دمای هوای تعدادی از شهرها در یک روز در جدول زیر داده شده است. با توجه به آن به سوالات داده شده جواب دهید.

شهر	شیراز	اهواز	تبریز	تهران
دما	۱۵	۲۵	۱۵	۲۵

الف) بیشترین دما برای چه شهری است؟

ب) خنک ترین شهر کدام است؟

پ) اختلاف دمای تهران و شیراز چقدر است؟

ت) نمودار ستوتی رسم کنید.

۳- بزرگترین عدد چهار رقمی بدون تکرار رقم چیست؟

۴- به سوالات زیر پاسخ دهید.

الف) بزرگترین عدد چهار رقمی زوج که با ارقام ۲، ۸، ۳ و ۵ ساخته شده باشد را بنویسید.

ب) کوچکترین عدد چهار رقمی با رقم های غیر تکراری که دهگانش ۲ باشد را بنویسید.

پ) مجموع دو عدد چیست؟

ت) اختلاف دو عدد را به دست آورید.

۴- حاصل عبارت های داده شده را به دست آورید.

الف) 53×0

ب) 200×10

پ) 20×400

ت) 1×509

ث) 100×25

ج) 8×9

۵- مبینا در هر روز ۶ عدد کشمش می خورد. او در ۲۷ روز چند کشمش خورده است؟

۶- محمد برای سفر ۳۶ نان خرید. اگر خانواده او روی ۴ عدد نان کامل بخورند، آن ها چند روز در سفر بودند؟

۷- باغچه ای به شکل روبرو داریم. می‌خواهیم دور این باغچه را سه دور نرده بکشیم. به چند متر نرده نیاز داریم؟

۸- آرمان ۵۳۲۰ تومان پول دارد. او از قلکش ۷۱۳۰ ریال برداشت. حالا او چند تومان پول دارد؟

۹- ستایش یک مستطیل با طول ۱۲ و عرض ۵ سانتی متر روی کاغذ کشید و با مدادشمعی صورتی آن را رنگ کرد. او چند سانتی متر مربع رنگ صورتی استفاده کرده است؟

۱۰- باقی مانده تقسیم ۳۵ بر ۸ چند است؟

۱۱- حاصل عبارت های زیر را به دست آورید.

$$(2 \times 5) + (8 \div 4) =$$

$$(23 \times 10) - (5 \times 6) =$$

$$(100 \times 5) \times (4 \times 5) =$$

$$(10 + 5) \div (3 \times 1) =$$

$$15 + 2 \times 3 =$$

$$14 - 18 \div 9 =$$

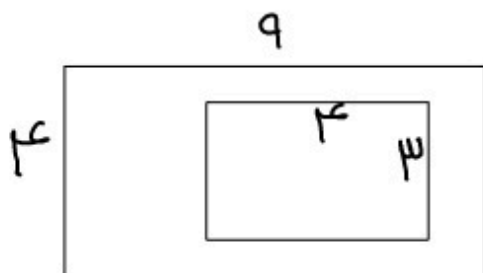
۱۲- عددی را بر ۵ تقسیم کردیم. باقی مانده ی آن چه عدد هایی می‌تواند باشد؟

۱۳- حاصل ضرب دو عدد ۳۶ و اختلاف آن ها ۵ است. حاصل جمع آن دو عدد چیست؟

۱۴- مجموع طول و عرض مستطیلی ۱۵ متر است. محیط این شکل چند سانتی متر است؟

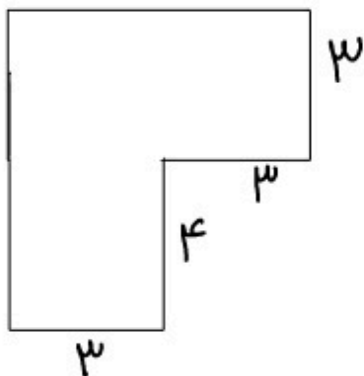
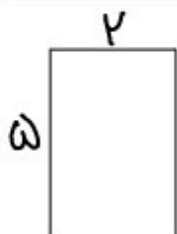
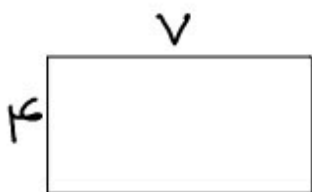
۱۵- سمانه ۲ اسکناس ۱۰۰۰ تومانی، ۳ اسکناس ۵۰۰۰ ریالی و ۲ سکه ۱۰۰ تومانی دارد. اگر ۱۸۰۰ تومان از پول خود را خرج کند، چند تومان برایش می ماند؟

۱۶- مساحت قسمت رنگی را پیدا کنید.



۱۷- پدر شها با هر ۲ متر پارچه، یک پیراهن برای سها می‌دوزد. او با ۱۷ متر پارچه چند پیراهن برای شها خواهد دوخت؟
چند متر پارچه باقی می‌ماند؟

۱۸- محیط و مساحت شکل‌های زیر را به دست آورید.



۱۹- در یک مغازه ۵ بسته مداد رنگی ۶ رنگ و ۱۰ بسته مداد رنگی ۱۲ رنگ داریم. روی هم در این مغازه چند مداد رنگی داریم؟

۲۰- ضرب های زیر را با روش های خواسته شده انجام دهید.

۴×۲ با شکل

۲×۶ با محور

دختر قشنگم

آخرین ارزشیابی ما، درس ریاضیه و موفق شدن توی درس ریاضی، دو تا چیز خیلی مهم نیاز داره:

- ۱- تکرار و تکرار و تکرار تا چیزی که یاد گرفتیم، یادمون نره. (حتی دانشمندان هم اگه مطالبی که شنیدن رو، تکرار نکنن، بعد مدتی یه سری چیزا یادشون میره!)
- ۲- تمرین و تمرین و تمرین تا توی هر نوع سوال، قوی بشیم. (مغز مثل دست و پا، نیاز به تمرین داره تا قوی بشه و رشد کنه. مثل یه فوتبالیست که هر روز چندین ساعت میدوعه تا توی یه بازی کم نیاره، ما هم باید هر روز از مغزمون استفاده کنیم تا قوی بشه و بتونه خوب فکر کنه.)

پس یادت نره

تکرار و تمرین 