

شماره‌ی

۱

ارمغان هفته - سوم دبستان

نام و نام خانوادگی: تاریخ: نام آموزگار:

مطالعات اجتماعی < مرور سال گذشته

هدیه‌های آسمان < مرور سال گذشته

قرآن < مرور سال گذشته

ریاضی < مرور سال گذشته

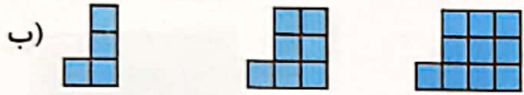
علوم < مرور سال گذشته

فارسی < مرور سال گذشته

ریاضی

۱ الگوهای زیر را ادامه دهید.

الف) ۵، ۶، ۸، ۰، ۰، ۰



۲ ستاره بابت خرید دفتر ۴۵۰ تومان و بابت خرید خطکش ۱۴۷ تومان باید بپردازد. او در کل چند تومان باید بپردازد؟

$$\begin{array}{r} ۶۳۲ \\ + ۲۵۱ \\ \hline \end{array}$$

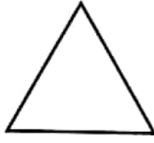
$$\begin{array}{r} ۷۸۹ \\ - ۵۴۷ \\ \hline \end{array}$$

۳ جمع و تفریق زیر را حل کنید.

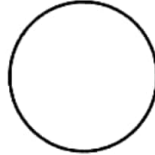
۴ ۲۵ میلی‌متر می‌شود سانتی‌متر و میلی‌متر

۳ میلی‌متر و ۴ سانتی‌متر می‌شود میلی‌متر

هر شکل را به چهار قسمت مساوی تقسیم کنید و یک قسمت از آن را رنگ کنید و عبارت مربوط به هر کدام را کامل کنید.



..... قسمت از قسمت مساوی رنگ نشده است. قسمت از قسمت مساوی رنگ نشده است.



..... قسمت از قسمت مساوی رنگ نشده است.

علوم

برای این که خاک کم تر فرسوده شود، یک پیشنهاد بدهید.

گیاهان برای رشد به چه چیزهایی نیاز دارند؟


برچسب صداهای پیام رسان و آزاردهنده را با دسته بندی بچسبانید.

آزاردهنده

پیام رسان













چه موقع از روز هوا گرم تر است؟ چرا؟

سایه‌ی درخت را با توجه به نور خورشید بکشید.



فارسی

۱ معنی کلمات زیر را بنویسید.

			شیشه				کوشا
			علم				سحرخیز

۲ مخالف کلمات زیر را بنویسید.

شب \neq زشت \neq درست \neq زیاد \neq

۳ کلمات درهم ریخته‌ی زیر را مرتب کنید و جمله‌ای زیبا بسازید.

نگه داری - چوپان - می کرد - از - گوسفندان

۴ جملات زیر را کامل کنید.

بی سواد یعنی
با ارزش یعنی
بی هدف یعنی
با ادب یعنی

۵ جمع هر کلمه را بنویسید.

پرنده: دانش آموز: کتاب: ستاره:

با کلمات زیر جمله‌های زیبا بنویسید.

با:

می‌نویسد:

چرا:

مطالعات اجتماعی

۱ اثر انگشت خود را در کادر ثبت کنید.



اثر انگشت من

هدیه‌های آسمان - قرآن

۱ امام حسین (ع) و امام حسن (ع) هر دو در شهر به دنیا آمده‌اند.

(۱) مکه (۲) مدینه (۳) نجف (۴) کوفه

۲ نام امام اول و دوم و سوم شیعیان را به ترتیب بنویسید.

امام اول | امام دوم | امام سوم

۳ تعداد رکعت‌های هر نماز را بنویسید.

نماز صبح: نماز ظهر: نماز عصر:
نماز مغرب: نماز عشا:

۴ هر تصویر وقت چه نمازی را نشان می‌دهد؟



شناخت کلمات و جملات

هم معنی

اطلاعات شناسنامه

شناخت امامان

الگوسازی

جمع و تفریق

تبدیل واحد طول

فواید انرژی خورشید و باد

صدای پیام‌رسان و آزار دهنده

شاخص‌ها

خیلی خوب

خوب

قابل قبول

نیاز به تلاش بیشتر