





• دانش آموز خوب! الگوهای عددی زیر را ادامه بده.

۲   ۷          

۶   ۱۲          

۴۵۰   ۵۰۰          

۲۰۰   ۳۰۰          

۰،۷،۱۴.....

۸،۱۶،۲۴.....

• در یک کلاس، ۶ نیمکت وجود دارد. روی هر نیمکت ۳ دانش آموز می‌نشینند. جدول را کامل کن و الگوی عددی کشف شده را توضیح بده.

نیمکت						
دانش آموز						

• حالا که عالی تمرینات را انجام دادی، به الگوی عددی جدید کشف کن و تا ۶ الگو ادامه بده.