




مربع های کوچک شکل زیر را به ۳ روش دسته بندی کنید و با شمارش چند تا چندتا تعداد آنها را به دست آورید.



جاهای خالی را با عدد مناسب پر کنید.

۲۰	+۱۲ →	
۷		
۱۵		

۲۰	-۱۲ →	
۱۸		
۴۰		

با توجه به عدد خارج شده از ماشین و کاری که ماشین انجام می دهد. عدد ورودی را بنویسید.

↓ +۱۵			
۳۰	۱۷	۲۶	۴۵