



موضوع:

تاریخ:

نام و نام خانوادگی:

هدف:

۱- یک ساختمان ۸ طبقه دارد. در هر طبقه آن ۵ واحد هست. بعد از تکمیل جدول زیر، به سوالها پاسخ دهید.

تعداد طبقه	۱	۲	۳	۴	۵	۶	۷	۸
تعداد واحدها	۵							

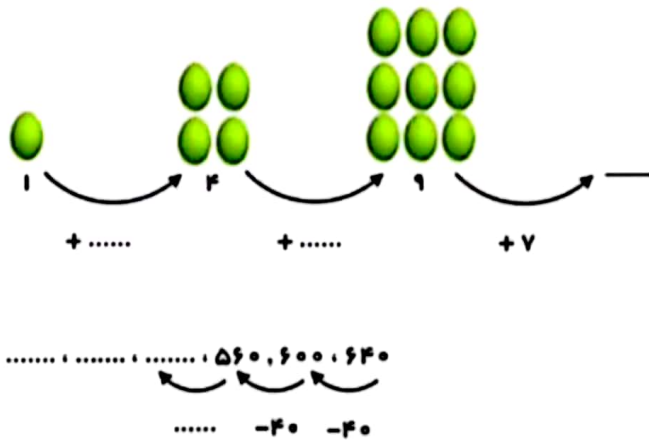
الف) ۳ طبقه آن چند واحد وجود دارد؟

ب) ۳۰ واحد در چه طبقه‌ای قرار دارد؟

د) ۸ طبقه آن چند واحد دارد؟

ه) بین تعداد واحدها و تعداد طبقات چه رابطه‌ای وجود دارد؟

۲- الگوهای زیر را ادامه دهید.





۳- یک پارکینگ در ۴ طبقه ساخته شده است. در بالاترین طبقه ۳ ماشین پارک شده است اگر هر طبقه که پایین‌تر می‌رویم

۴ ماشین به تعداد ماشین‌ها اضافه شود.

- چه الگویی بین تعداد طبقات و ماشین‌ها وجود دارد؟

۴- شکلات‌های زیر را به دو روش دسته‌بندی کنید به کمک الگوی شمارش چند تا چند تا و نوشتن یک عبارت جمع، تعداد

شکلات‌ها را به دست بیاورید؟



۵- قطار تهران مشهد در ساعت ۶ صبح از تهران به سمت مشهد حرکت کرد و بعد از ۹ ساعت به مشهد رسید. زمان

رسیدن قطار به مشهد را به دو صورت بنویسید؟ ..... یا ..... بعد از ظهر



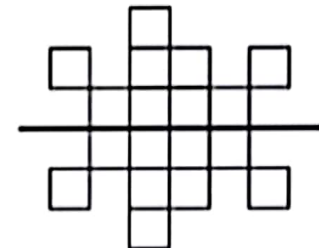
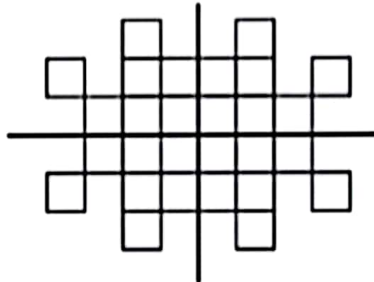
موضوع:

تاریخ:

نام خانوادگی:

هدف:

۶- تعداد مربع‌های کوچک را در شکل‌های زیر با توجه به خط تقارن بشمارید (از روش جمع و الگوی شمارش چند تا چند تا استفاده کنید)




۷- امروز یک شنبه و دوم آذرماه است. تا پایان آذرماه روزهای یک شنبه چه تاریخ‌هایی خواهند داشت؟

۸- با کنار هم قرار دادن عددهای مناسب، حاصل جمع آن‌ها را به دست بیاورید؟

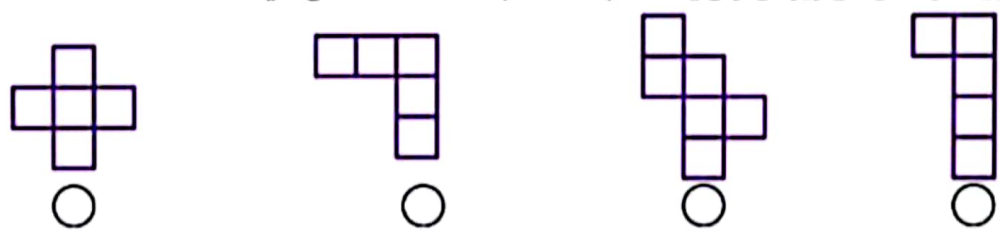
$$8 + 5 + 5 + 2 + 6 =$$

$$3 + 7 + 9 + 9 + 1 =$$

۹- با توجه به کار ماشین ورودی- خروجی رو به رو، در جاهای خالی عدد مناسب قرار دهید.



۱۰- با کدام یک از شکل‌های زیر می‌توان یک مکعب ساخت؟ با علامت  مشخص کنید؟



۱۱- برنامه ی کودک ساعت ۱۷:۳۰ دقیقه از شبکه پویا پخش می‌شود؟ زمان پخش برنامه ی کودک چند بعداز ظهر است؟  
..... بعداز ظهر

۱۲- خط تقارن شکل‌های زیر را رسم کنید؟

