



تاریخ:

نام و نام خانوادگی:

۱. الگوهای زیر را کامل کن.

الف) ۲۵۰، ۳۰۰، ۳۵۰،

ب)، ۷۱۰، ۸۱۰، ۹۱۰

۲. کدام دسته از عددهای زیر به ترتیب از چپ به راست در جاهای خالی قرار می گیرند؟

۱۰۰، ۱، ۹۹، ۲، ۹۸،

(۲) ۳ و ۹۷ و ۴

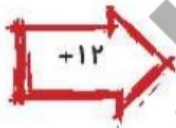
(۱) ۹۶ و ۳ و ۹۷

۳. شکل زیر را دسته بندی کرده و با نوشتن یک عبارت جمع، مجموع تعداد دایره ها را به دست بیاور.



۴. جاهای خالی را با عددهای مناسب پر کن.

۸



۲۱



۱۶

۵. صورت گسترده ی یک مکعب را بکش و بنویس با چند مربع می توان یک مکعب درست کرد؟

.....

.....

.....

.....

.....





ارزشیابی فصل اول

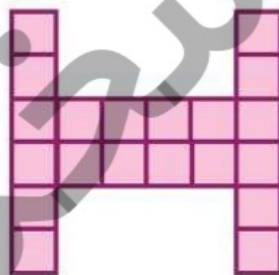
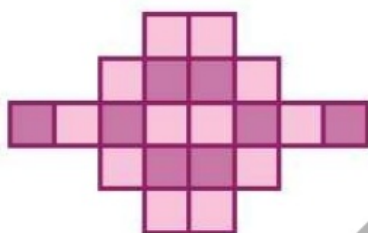
تاریخ:

نام و نام خانوادگی:

۶. اگر در ساعت ۷ بعد از ظهر خورشید غروب کند و طول روز ۱۴ ساعت باشد، حساب کن طلوع خورشید در چه ساعتی از صبح بوده است؟

۷. تئاتری ساعت ۱۱ صبح شروع و در ساعت ۲ بعد از ظهر به پایان می‌رسد. نمایش این تئاتر چند ساعت طول کشیده است؟

۸. خط یا خط‌های تقارن شکل‌های زیر را رسم کرده و تعداد مربع‌های هر شکل را به دست بیاور.



۹. کدام یک از شکل‌های زیر بیشترین خط تقارن را دارد؟ آنها را رسم کن.




۱۰. کارهای آرزو در جدول زیر مشخص شده، آن را کامل کن.

شروع مطالعه	حمام	استراحت
.....	۶ و ۳۰ دقیقه بعد
بعد از ظهر	از ظهر	بعد از ظهر
۱۷	۱۹ و ۴۵ دقیقه

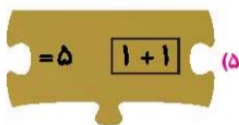
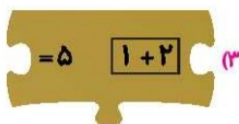
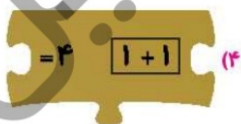
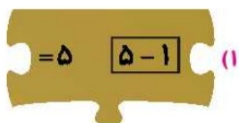
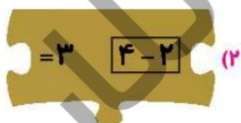
۱۱. اتوبوس تهران - شیراز ساعت ۱۹ از تهران حرکت می‌کند. حرکت این اتوبوس ساعت بعد از ظهر است.

۱۲. در شمارش ۷ تا ۷ تا عدد قبل از ۲۹ چه عددی می‌باشد؟

۱۳. چند مکعب از شکل سمت چپ برداریم تا به شکل سمت راست برسیم؟



۱۴. کدام تکه را بین این دو تکه بگذاریم تا تساوی‌ها درست بشوند؟



ارزشیابی فصل اول

نام و نام خانوادگی: تاریخ:

۱۵. شکل زیر، کارهای روزانه برنا را نشان می‌دهد. مشخص کن به ترتیب از راست به چپ:

(الف) او چند ساعت در مدرسه بوده است؟

(ب) او چند ساعت در منزل مطالعه کرده است؟

