



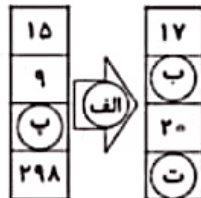
موضوع: ریاضی

تاریخ

نام و نام خانوادگی

هدف: مرور فصل اول و حل مسئله ی فصل دوم

۴) جاهای خالی را با عدد مناسب کامل کنید.



ریاضی سوم دبستان

طرح سنجش استعداد: مداد لایمز ۱ - تومینی

زمان: ۴۵ دقیقه

مفتحه سوم آبان

نام خانوادگی:

نام:

شماره ملی:

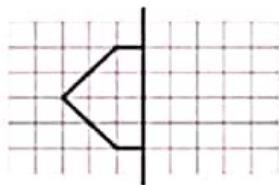
شعبه: کلاس:

۵) تمام حالت‌هایی را بنویسید که جمع دو عدد ۵ شود.

۱) هر شکل را به تعداد خط تقارنش وصل کنید.

- الف)
- ب)
- پ)
- ت)
- ۱ (۱) •
- ۲ (۲) •
- ۴ (۳) •
- ۴ بی‌شمار •

۶) با توجه به خط تقارن، نیمه‌ی دیگر شکل را کامل کنید و سپس تعداد مربع‌های شکل کامل شده را بنویسید.



۲) جملات درست را با علامت ✓ و جملات نادرست را با علامت ✗ مشخص کنید.

- الف) یک شبانه روز ۲۴ ساعت است.
- ب) ساعت ۱۴، همان ساعت ۲ بعد از ظهر است.
- پ) ساعت ۸ بعد از ظهر، همان ساعت ۱۸ است.
- ت) ۲ ساعت قبل از ساعت ۵ بعد از ظهر می‌شود ساعت ۱۳.

۷) مغازه‌داری نوعی کیک را ۵۰۰ تومان می‌خرد و ۵۵۰ تومان می‌فروشد.

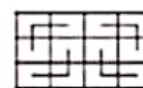
الف) جدول داده شده را کامل کنید.

ب) چند کیک باید بفروشد تا ۲۰۰ تومان سود کند؟

تعداد کیک	۱	۲	۳		
سود کیک‌ها					

۳) گزینه‌ی صحیح را مشخص کنید.

الف) کدام جمع مربوط به دسته‌بندی شکل داده شده است؟



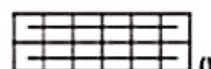
۱) $۴ + ۴ + ۴$

۲) $۳ + ۳ + ۳ + ۳$

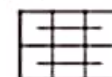
۳) $۴ + ۴ + ۴ + ۴$

۴) $۳ + ۳ + ۳$

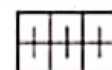
گدام شکل مربوط به شمارش ۲، ۴، ۶ است؟



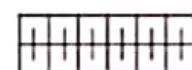
(۲)



(۱)



(۴)



(۳)



موضوع: ریاضی

تاریخ

نام و نام خانوادگی

هدف: مرور فصل اول و حل مسئله ی فصل دوم

ریاضی سوم دبستان

طرح سنجش استعداد: مداد الرمز ۱ - توصیفی

مدت زمان: ۴۵ دقیقه

هفته چهارم آبان

نام خانوادگی:

نام:

شماره ملی:

شعبه: کلاس:

(۱) هر عدد را به الگوی مناسب وصل کنید.

۱، ۸، ۱۵، ۲۲، ؟ ○ ○ (۱۶)


۰، ۱، ۴، ۹، ؟ ○ ○ (۳۲)

۱، ۱۲، ۲۳، ۳۴، ؟ ○ ○ (۲۹)

۶۴، ۵۶، ۴۸، ۴۰، ؟ ○ ○ (۴۵)

(۵) قطار مسافری ساعت ۷:۴۰ از ایستگاه راه آهن حرکت کرد و بعد از ۸ ساعت به مقصد رسید. این قطار چه ساعتی از بعد از ظهر به مقصد رسیده است؟

(ب) الگوی ساعت را ادامه دهید و ساعت را کامل کنید.



(۲) جملات درست را با علامت ✓ و نادرست را با علامت × مشخص کنید.

الف) عدد ۳۲۸۰ یعنی ۳ هزار تایی، ۲ ده تایی و ۸ صد تایی. □

ب) ۸ صد ریالی و ۲ ده ریالی می شود ۱۰۰ تومان □

پ) اگر ۲ واحد به عدد ۹۹۸ اضافه کنیم، پاسخ ۱۰۰۰ می شود. □

ت) ۱۰۰ تومان، ۱۰ ریال می شود. □

(۶) ریاضی دلمان نقاش، اندازه های یکسان را، هم رنگ کنید.



(۳) گزینه ی درست را انتخاب کنید.

الف) شکل زیر از چند مکعب ساخته شده است؟



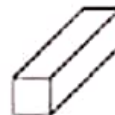
۱۰ (۲) مکعب

۹ (۳) مکعب

۱۱ (۱) مکعب

۸ (۳) مکعب

ب) شکل هندسی مقابل تشکیل شده است از:



۶ مستطیل (۲)

۶ مربع (۴)

۲ مربع و ۳ مستطیل

۳ مربع و ۲ مستطیل

(۷) اکبر آقا یک شکلات را به قیمت ۳۰۰ تومان خرید و ۴۵۰ تومان می فروشد. جدول را کامل کنید و پرسش ها را پاسخ دهید.

الف) با فروش یک شکلات چند تومان سود می کند؟

ب) با فروش چند شکلات ۶۰۰ تومان سود می کند؟

پ) او با فروش چند شکلات می تواند یک شکلات جدید بخرد؟

تعداد شکلات	۱	۲	
سود			

(۴) با پر کردن جاهای خالی، ماشین زیر را کامل کنید.

