



موضوع: ریاضی

تاریخ

نام و نام خانوادگی

هدف: مرور فصل اول و حل مسئله ی فصل دوم

ریاضی سوم دستانان

طرح ستش استعداداتعداد فرمز ۱- توصیفی

زمان ۴۵ دقیقه

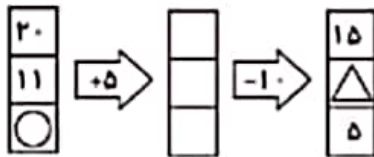
هفته چهارم آبان

نام خانوادگی: .....

نام: .....

شماره ملی: .....

شعبه: ..... کلاس: .....

(۳) با کمال کردن ماشین زیر، مجموع  $\Delta$  و  $\bigcirc$  را حساب کنید.

(۵) برای شکل خطهای تقارن مناسب را کشیده و از آنها برای

شمارش تعداد دایره ها استفاده کنید.



(۷) برنایک جوجه را به قیمت ۱۲۰۰ تومان خرید و ۱۶۰۰ تومان

فروخت. با کمال کردن جدول به پرسشها پاسخ دهید.

تعداد جوجه	۱	۲			
سود					

(الف) با فروش یک جوجه چقدر سود کرده است؟

(ب) با فروش چند جوجه ۲۰۰۰ تومان سود می کند؟


(پ) او چند جوجه بفروشد تا بتواند با سود آنها یک جوجه ی دیگر

بفرد؟

(۱) طولهای داده شده را از کوچک به بزرگ مرتب کنید.



کوچک ترین

(۲) جملات درست را با  $\checkmark$  و نادرست را با  $\times$  مشخص کنید.(۱)  $9 + 2000 + 8000 + 20$  می شود:  $\square$  ۲۸۳۹

(۲) سیزده جمع می توان نوشت (با جابه جایی) که حاصل آنها

۱۲ شود.  $\square$ 

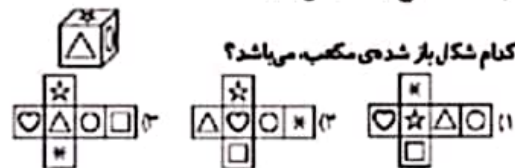
(۳) باز شده ی عدد ۶۰۵۰ می شود:

 $\square$  ۶۰۰۰ + ۵۰۰

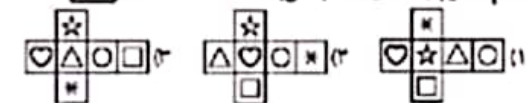
(۴) اگر مهرهای درنا ۷ صفت ده تایی شود و ۳ مهره کنار

آنها بماند، درنا ۷۳ مهره دارد.  $\square$ 

(۴) گزینه ی صحیح را مشخص کنید.



(الف) کدام شکل باز شده ی مکعب می باشد؟



(ب) درنا جمعه ساعت ۱۰ صبح از خواب بیدار شد. ساعت صبحانه، ۲

ساعت درس، ساعت فیزیون را در برنامه خود داشته پس به سینما

رفت. اگر لو یک ساعت در راه باشد چه ساعتی به سینما رسیده است؟

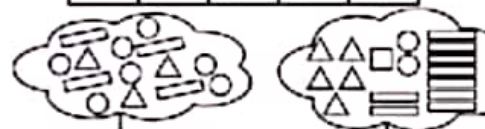
(۱) ۱۵ یا ۳ بعدازظهر (۲) ۱۴ یا ۲ بعدازظهر

(۳) ۱۵ یا ۲ بعدازظهر

(۶) باتوجه به جدول در هر  $\square$  چه عددی وجود دارد؟ (با رقم و

با حروف)

نشانه	$\Delta$	$\square$	$\bigcirc$	$\equiv$
عدد	۱۰۰۰	۱۰۰	۱	۱



با رقم: .....

با حروف: .....



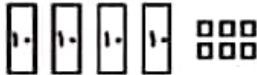
موضوع: ریاضی

تاریخ

نام و نام خانوادگی

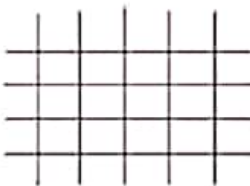
هدف: مرور فصل اول و حل مسئله ی فصل دوم

۴) با توجه به عددی که شکل نشان می دهد، جاهای خالی را به طور مناسب پر کنید.



شکل، عدد ..... (۲۳۴۶ - ۴۳۴۳) را نشان می دهد، که عددی ..... (۳ - ۴) رقمی است. رقم ..... (۳ - ۴) در مرتبه ی هزارگان قرار دارد و جمع رقم های یکان و صدگان ..... (۵ - ۹) می شود.

۵) از صفحه شطرنجی استفاده نموده، یک شکل متقارن به دلخواه کشیده و خط تقارن آن را مشخص نمایید.



۶) تمام عددهای سه رقمی را بنویسید که صدگان آن ها ۴، دهگان آن ها ۵ یا صفر و یکان آن ها ۹ یا ۸ باشد.

۷) ساختمان ۳ طبقه ای داریم. بالاترین طبقه ی آن ۱ واحد دارد اما هر طبقه که پایین می رویم یک واحد اضافه می شود. اگر در هر واحد ۲ اتاق داشته باشد:  
الف) جدول را کامل کنید.  
ب) طبقه دوم چند واحد دارد؟  
پ) طبقه ی اول چند اتاق دارد؟

طبقه	
واحد	
اتاق	

ریاضی سوم دبستان

طرح ستیجی استعداد: مداد هرز ۱، توصیفی

زمان: ۴۵ دقیقه

هفته چهارم آبان

نام خانوادگی: .....

نام: .....

شماره ملی: .....

شعبه: ..... کلاس: .....

۱) هر ساعت را به معادل بعد از ظهر آن وصل کنید.

- |           |                    |
|-----------|--------------------|
| • ساعت ۱۵ | • یازده بعد از ظهر |
| • ساعت ۲۳ | • پنج بعد از ظهر   |
| • ساعت ۱۷ | • سه بعد از ظهر    |
| • ساعت ۲۰ | • هشت بعد از ظهر   |

۲) جملات درست را با علامت ✓ و نادرست را با علامت ✗ مشخص کنید.

- الف) ۱۰۰۰ کلوجه در یک کیسه فریزر جا می شود.
- ب) ۵ هزار تایی و ۳ هزار تایی می شود ۸ هزار تایی
- پ) ۲۰۰ تومان، برابر ۲۰۰۰ ریال
- ت) ۴ هزار تایی و ۹ ده تایی می شود ۴۹۰۰

۳) در هر مورد گزینه ی درست را مشخص کنید.  
الف) شکل مقابل از چند مکعب ساخته شده است؟



- ۶ (۱)  
۷ (۲)  
۸ (۳)  
۹ (۴)  
ای خلی در ماشین ورودی - خروجی زیر با چه عددی پر؟  
۶ (۱)  
۷ (۲)  
۸ (۳)  
۷ (۴)

