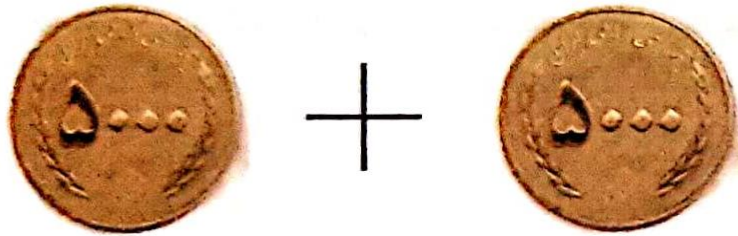



تبدیل اسکناس به سکه و برعکس



=



حالا تو بگو: ۴ تا سکه‌ی ۵۰۰۰ ریالی برابر است با یک اسکناس **۲۰۰۰** تومانی.

فعالیت کلاسی



۱ ۵ سکه‌ی هزار ریالی و ۵ سکه‌ی صد ریالی چند ریال است؟

$$۵۰۰۰ + ۵۰۰ = ۵۵۰۰ \text{ ریال}$$

۵۰۰۰ ریال ۵۰۰ ریال

۲ ۱۰ سکه‌ی یک ریالی و ۲۰ سکه‌ی ده ریالی و ۲۰ سکه‌ی صد ریالی روی هم چند تومان است؟ ۲۲۱ تومان

۱۰ ریال ۲۰۰ ریال ۲۰۰۰ ریال

$$۲۰۰۰ + ۲۰۰ + ۱۰ = ۲۲۱۰ \text{ ریال}$$

۳

برای خرید ۳ نان ۵۰۰ تومانی و ۲ نان ۲۵۰ تومانی چند ریال پول لازم داریم؟



۲۵۰ تومان



۵۰۰ تومان

$$۵۰۰ + ۵۰۰ + ۵۰۰ = ۱۵۰۰ \text{ تومان}$$

$$۲۵۰ + ۲۵۰ = ۵۰۰ \text{ تومان}$$

$$۱۵۰۰ + ۵۰۰ = ۲۰۰۰ \text{ تومان}$$

۴


اگر قیمت یک بادکنک با گاز هلیوم ۳۰۰ تومان باشد:

الف: با ۹۰۰ تومان چند بادکنک می‌توان خرید؟

۳ بادکنک

ب: قیمت بادکنک چند ریال است؟

۳۰۰۰ ریال



بادکنک	۱	۲	۳
قیمت	۳۰۰	۶۰۰	۹۰۰