

نام و نام خانوادگی:

دبستان پسرانه ی علوی (شعبه مرکز)

موضوع: ضرب اعداد مخلوط



سوالات

ردیف

۱ زمین کشاورزی را به دو قسمت مساوی تقسیم کردند . در نیمی از آن جو کاشتند و نیم دیگر را به چهار قسمت مساوی تقسیم کردند در دو قسمت آن گندم کاشتند . (با رسم شکل به سوالات زیر پاسخ دهید .)

الف) چه کسری از زمین جو کاشته شده است ؟


ب) چه کسری از زمین خالی مانده است ؟

۲ کسرهای زیر را روی محور نشان دهید .

$$\frac{4}{8}$$

$$\frac{2}{6}$$

۳ یک دایره را به چهار قسمت مساوی تقسیم کردیم و هر قسمت را به دو قسمت مساوی تقسیم کردیم . این دایره به چند قسمت مساوی تقسیم شده است ؟



۴ درست یا نادرست بودن جمله های زیر را بنویس .

$\frac{2}{3}$ از پرچم کشور ما سبز است . درست نادرست

به عدد $\frac{5}{10}$ عدد کسری می گویند . درست نادرست

$\frac{2}{6}$ یعنی ۶ قسمت از ۲ قسمت مساوی . درست نادرست

۵ یک مثلثی که تمام اضلاعش با هم برابر است را نمی توان به سه قسمت مساوی تقسیم کرد . درست نادرست

سوالات

ردیف

کسرهای داده شده را با رنگ کردن روی شکل نشان بده .

۶



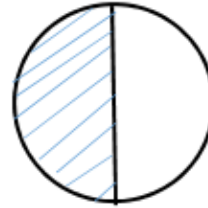
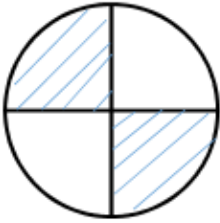
$$\frac{8}{16}$$



$$\frac{2}{3}$$

کسرهایی را که هر دایره نشان می دهد و به همان اندازه از مستطیل رنگ بزن .

۷



آفرین بر دقت شما	تحويل به موقع آموزگار			رعایت زیبایی و پاکیزگی			پاسخ کامل به سوالات		
☆☆☆	☹	☺	😊	☹	☺	😊	☹	☺	😊