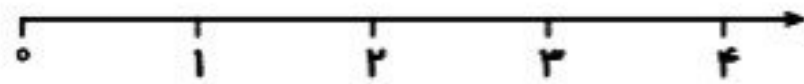
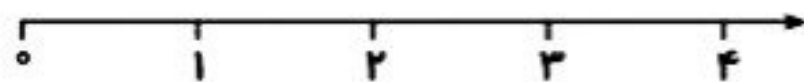


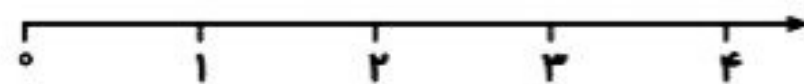
۱ - عددهای خواسته شده را روی محور نشان دهید .



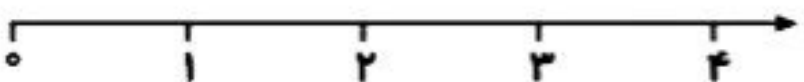
$\frac{2}{3}$ واحد بعد از ۳ واحد



$\frac{3}{5}$ واحد بعد از ۱ واحد

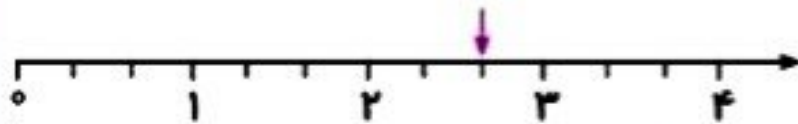


$\frac{1}{4}$ واحد مانده به ۲ واحد

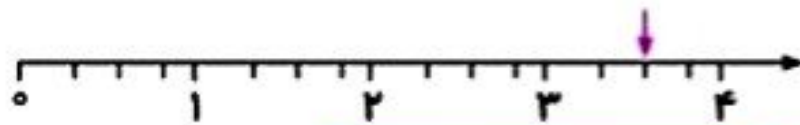


$\frac{3}{4}$ واحد مانده به ۲ واحد

۲ - با توجه به محور داده شده در جاهای خالی عدد مناسب بنویسید.



الف) واحد بعد از واحد



ب) واحد مانده به واحد

چه کسری از هر شکل رنگ شده است ؟

