


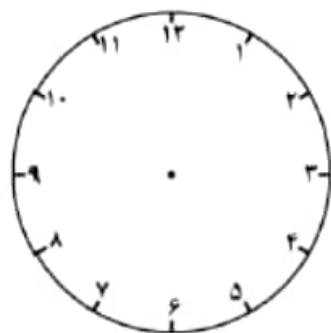
۱- با توجه به شکل به سوالات پاسخ دهید .



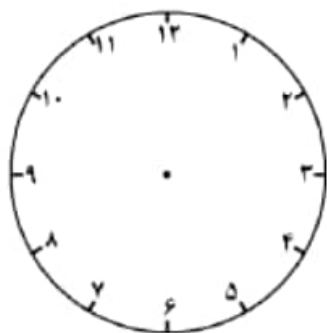
چه کسری از شکل آبی است ؟

چه کسری از شکل زرد است ؟

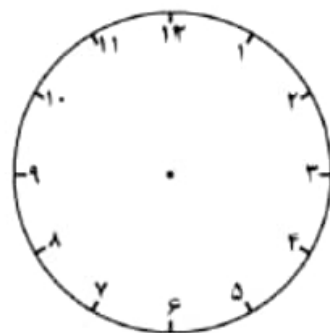
۲- ساعت های زیر را روی شکل نشان بده .



نوزده و نیم



ده و ربع



یک ربع به سیزده

۳- جاهای خالی را با کسر مناسب پر کن .

نیم همان کسر است .

ربع همان کسر است .

۴ میلی متر یعنی سانتی متر .