

شکل به طور سریبی ر

# فضای کلاسی




۱ در جاهای خالی عدد مناسب بنویس.

الف: یک قسمت از سه قسمت مساوی می شود.  $\frac{\square}{3}$

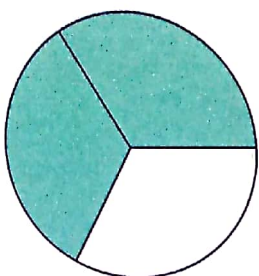
ب: یک قسمت از پنج قسمت مساوی می شود.  $\frac{\square}{5}$

پ: چهار قسمت از هشت قسمت مساوی می شود.  $\frac{\square}{4}$


۲ کسر مربوط به قسمت رنگ شدهی هر شکل را بنویس.



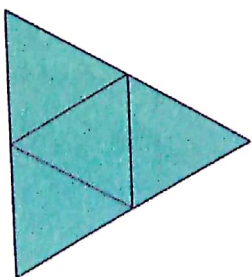
.....



.....



.....




.....

ریاضی سوم دبستان



چه کسری از هر شکل رنگ شده است؟ (با تبدیل شکل به قسمت‌های مساوی)

۲۳



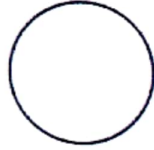

.....

.....

.....

شکل‌های زیر را رنگ کن و بگو چه کسری از شکل‌ها رنگ نشده است؟

۴



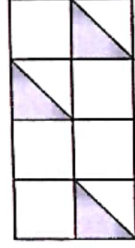
.....

.....


.....

تمرین

۱ با توجه به مقدار رنگ شده، کسر مربوط به هر شکل را به آن وصل کن.



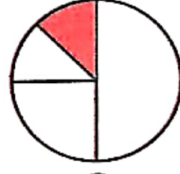
$\frac{1}{12}$



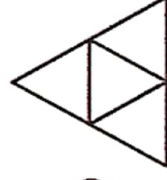
$\frac{2}{10}$




$\frac{1}{8}$



$\frac{2}{16}$



$\frac{8}{8}$



$\frac{0}{4}$