



نام و نام خانوادگی

تاریخ

موضوع:

هدف:

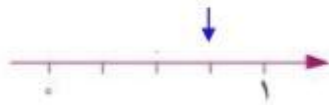



روی شکل نشان دهید.

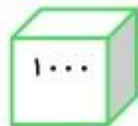
زمینی به شکل مستطیل داریم. آن را به ۹ قسمت مساوی تقسیم کرده ایم. در ۳ قسمت آن سبزی و در ۴ قسمت آن گندم کاشته ایم. چه مقدار از این زمین باقی مانده است؟ ..... قسمت از ..... قسمت مساوی باقی مانده است.

۱

برای هریک از شکل های داده شده کسر مناسب بنویسید.



۲



هریک از شکل هانشانه ی عددروی آن است. با رسم شکل حاصل تفریق داده را به دست آورید.  $6437 - 2325 = \dots\dots\dots$

۳

$\frac{2}{6} \rightarrow$

$\frac{3}{8} \rightarrow$

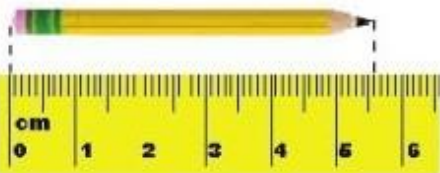
هریک از کسر های داده شده را روی شکل نشان دهید.

۴



اندازه ها را با توجه به خط کش درج های خالی بنویسید. طول گیره ی کاغذ ..... و ..... سانتی متر است.

۵



طول مداد ..... سانتی متر و ..... سانتی متر است.

بازخورد:

.....

.....

.....

