
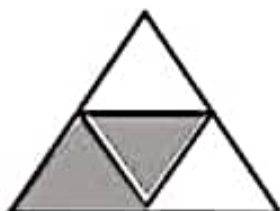


۹- برای هر شکل کسر مناسب بنویسید.

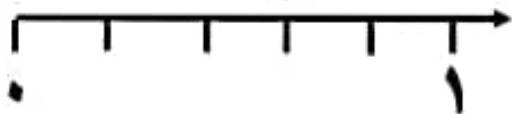


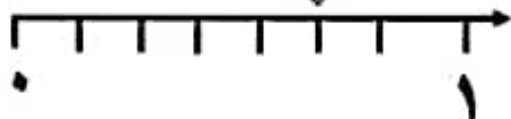
ریاضی سوم ابتدایی











۱۰- برای کسرهای زیر شکل بکشید.

شکل بکش که عظیم



$\frac{3}{4}$ واحد بعد از عدد 4

$\frac{5}{7}$ واحد بعد از عدد 3

$\frac{4}{6}$ واحد بعد از عدد 2

