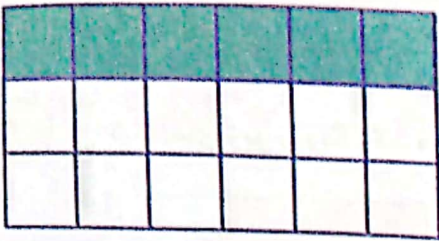


۲ درستی  و نادرستی  هر عبارت را مشخص کن.


الف: قسمت مشخص شده در محور کسر  $\frac{3}{5}$  است.

ب: قسمت مشخص شده در محور کسر  $\frac{2}{6}$  است.


۳ چه کسری از این مستطیل رنگ شده و چه کسری رنگ نشده است؟



۴ کسرهای داده شده را روی شکل نشان بده.

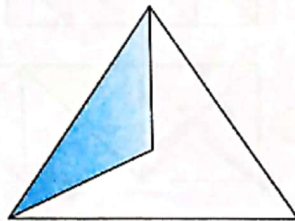


$$\frac{3}{5}$$

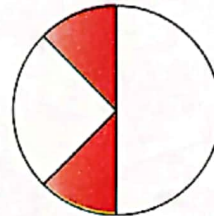


$$\frac{2}{4}$$

۵ چه کسری از هر شکل رنگ نشده است؟



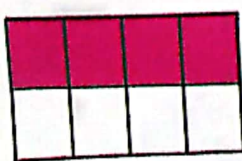
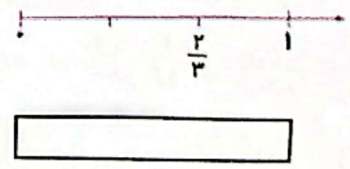

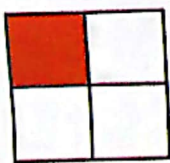


.....



.....

۶ مقدار رنگ شدهی هر شکل را روی محور نشان بده و به همان مقدار از مستطیل را رنگ کن.



۷ بر روی هر محور، علامت چه کسری را نشان می‌دهد؟




.....



.....

۸ به طور تقریبی چه کسری از هر شکل رنگ شده است؟




.....



.....

۹ چه کسری از این شکل رنگ شده است؟




$\frac{4}{5}$  (۲)  
 $\frac{5}{9}$  (۴)

$\frac{5}{4}$  (۱)  
 $\frac{6}{9}$  (۳)

## خودارزیابی

خیلی خوب    خوب    قابل قبول    نیاز به تلاش

<input type="radio"/>	<input type="radio"/>	<input type="radio"/>	<input type="radio"/>
<input type="radio"/>	<input type="radio"/>	<input type="radio"/>	<input type="radio"/>
<input type="radio"/>	<input type="radio"/>	<input type="radio"/>	<input type="radio"/>
<input type="radio"/>	<input type="radio"/>	<input type="radio"/>	<input type="radio"/>



شناخت اجزای کسر

توانایی تقسیم اشکال مختلف به قسمت‌های مساوی

توانایی رسم شکل و محور برای کسر

توانایی نوشتن کسر از روی شکل یا محور