

ضرب عدد ۳



تعداد دسته

داخل دسته

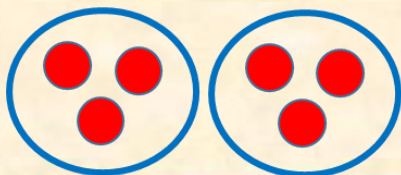
حاصل ضرب

$$1 \times 3 = 3$$



یک دسته ی ۳ تایی می شود ۳ تا

$$2 \times 3 = 6$$



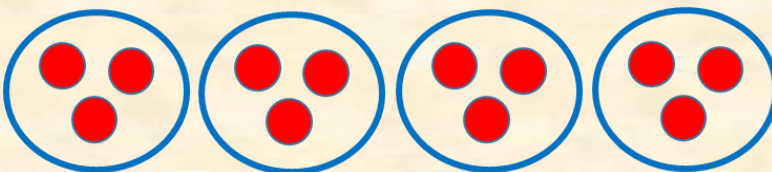
۲ دسته ی ۳ تایی می شود ۶ تا

$$3 \times 3 = 9$$



۳ دسته ی ۳ تایی می شود ۹ تا

$$4 \times 3 = 12$$



۴ دسته ی ۳ تایی می شود ۱۲ تا

$$5 \times 3 =$$

$6 \times 3 =$

$7 \times 3 =$

$8 \times 3 =$

$9 \times 3 =$

$10 \times 3 =$

فعالیت کلاسی



جاهای خالی را پر کن.

۱

الف: طول پاک کن سانتی متر و ۷ میلی متر است.

ب: طول پاک کن سانتی متر و $\frac{7}{10}$ سانتی متر است.

پ: طول گیره سانتی متر و $\frac{5}{10}$ سانتی متر است.

ت: طول آدامس سانتی متر و سانتی متر است.

در جاهای خالی کسر مناسب بنویس.

۲

الف: طول نگین انگشتری ۷ میلی متر است، یعنی $\frac{7}{10}$ یک سانتی متر.

ب: طول مداد ۱ سانتی متر و ۴ میلی متر است، یعنی ۱ سانتی متر و $\frac{4}{10}$ سانتی متر.



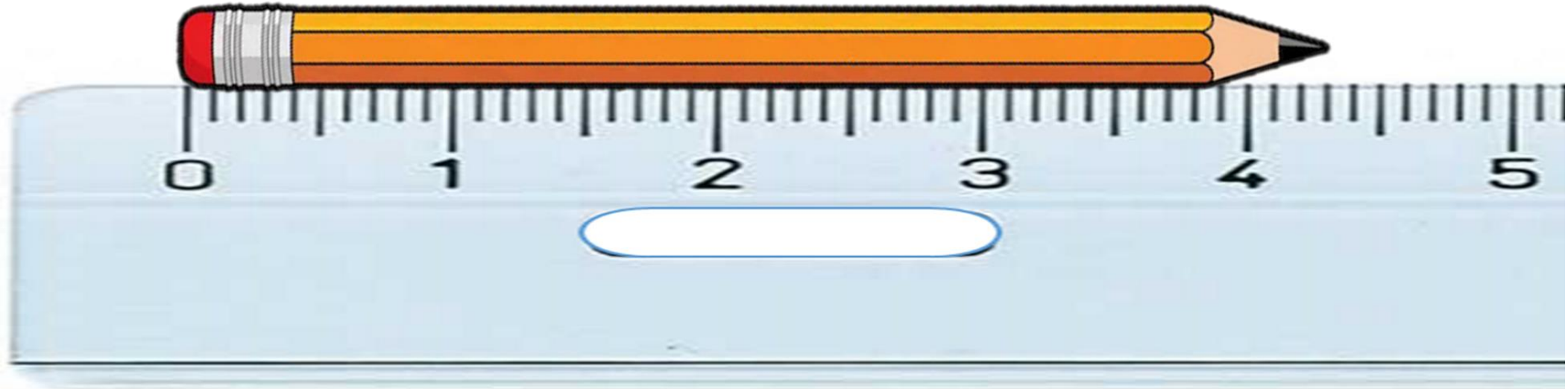
۲

طول مداد مونا ۴۳ میلی‌متر است. حالا به سوالات زیر پاسخ بده.

الف: ۴۳ میلی‌متر یعنی سانتی‌متر و قسمت از ۱۰ قسمت مساوی.

ب: طول مداد میلی‌متر بیش‌تر از سانتی‌متر است.

پ: طول مداد $\frac{7}{10}$ سانتی‌متر مانده است تا به ۵ سانتی‌متر برسد.





الف: ساعت مقابل چند دقیقه بعد از ساعت ۱۲ را نشان می‌دهد؟ ۱۵ دقیقه

ب: یعنی ۱۵ دقیقه بعد از ۱۲.

$$\frac{45}{60}$$

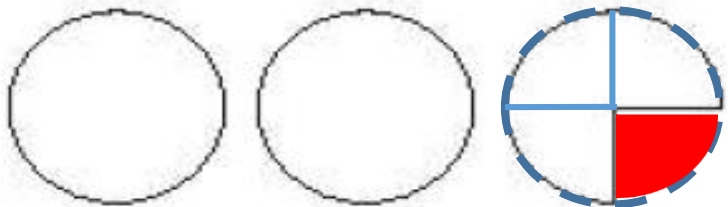
پ: چه کسری از ساعت به ساعت ۱ مانده؟

۴



شکل‌های هر قسمت چه کسری کم دارند تا ۲ دایره‌ی کامل شوند؟

الف:



ب:

