

فرزندم روی شکل های زیر تساوی کسرها را نشان بده.

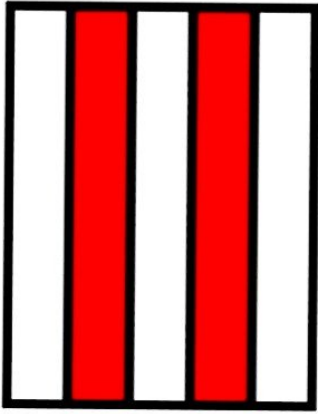


--	--	--









۱- با کامل کردن شکل نشان بده .  $\frac{2}{5} = \frac{6}{15}$

۲- برای شکل زیر سه کسر مساوی بنویس .



$$\underline{\quad} = \underline{\quad} = \underline{\quad}$$

۳- با مثال و رسم شکل ثابت کنید: کسری که صورت و مخرجش با هم برابر باشد ، مساوی با **یک** است .