

به نام خدا

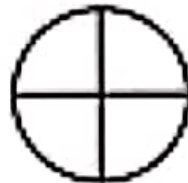
عزیزم! با توجه به کسرها، شکل‌ها را رنگ بزن و سپس کسرهای را مقایسه کن. (<=>)



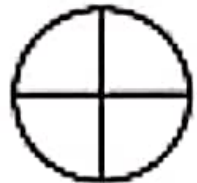
$$\frac{4}{6}$$



$$\frac{5}{6}$$



$$\frac{3}{4}$$



$$\frac{1}{4}$$



$$\frac{5}{8}$$



$$\frac{5}{8}$$



$$\frac{2}{3}$$



$$\frac{1}{3}$$



$$\frac{2}{5}$$



$$\frac{3}{5}$$



$$\frac{1}{7}$$



$$\frac{6}{7}$$



$$\frac{2}{2}$$



$$\frac{1}{2}$$









$$\frac{7}{10}$$



$$\frac{5}{10}$$

شاگرد عزیزم، در جاهای خالی عددهای مناسب بنویس. ♥

$\frac{1}{2}$	$\frac{2}{4}$	$\frac{4}{8}$	$\frac{1}{3}$	$\frac{2}{6}$	$\frac{4}{12}$
					
$\frac{1}{2} = \frac{\square}{4}$	$\frac{1}{2} = \frac{\square}{6}$	$\frac{2}{6} = \frac{\square}{12}$			
$\frac{1}{2} = \frac{\square}{8}$	$\frac{1}{2} = \frac{\square}{18}$	$\frac{2}{6} = \frac{\square}{3}$			
$\frac{2}{4} = \frac{\square}{8}$	$\frac{4}{8} = \frac{\square}{2}$	$\frac{4}{12} = \frac{\square}{3}$			
$\frac{2}{4} = \frac{\square}{2}$	$\frac{4}{8} = \frac{\square}{4}$	$\frac{4}{12} = \frac{\square}{6}$			



بازخورد آموزگار :

نام دانش آموز :