

۱- اگر ○ بسته‌ی هزار تایی و △ بسته‌ی صد تایی و □ بسته‌ی ده تایی و □ نشان دهنده‌ی یکی باشد

○○○□□□□□□
□△△□□□□□□

شکل زیر چه عددی را نشان می‌دهد؟

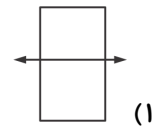
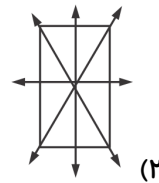
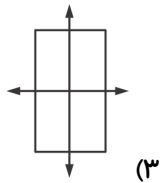
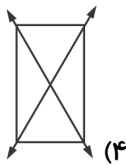
۵۴۷۲ (۴)

۴۲۰۳ (۳)

۳۴۵۸ (۲)

۵۲۴۷ (۱)

۲- در کدام شکل تمامی خط‌تقارن‌های مستطیل کامل و درست کشیده شده است؟



۳- اشکال زیر با الگوی خاصی چیده شده‌اند. کدام یک از گزینه‌ها الگویی مشابه دارند؟

