

نام و نام خانوادگی:

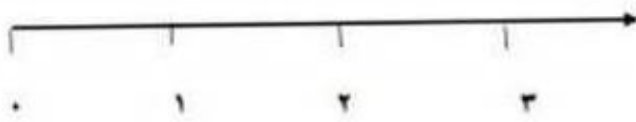
دبستان پسرانه ی علوی (شعبه مرکز)

موضوع: ضرب اعداد مخلوط




کشاورزی زمینی مستطیل شکل را به پنج قسمت مساوی تقسیم کرده یکی از قسمت ها را به چهار قسمت تقسیم کرده و در دو قسمت گندم کاشته است . این کشاورز چه کسری از زمین را گندم کاشته است؟

بر عدد را به طور تقریبی روی محور نشان دهید .




$$\frac{1}{2} \text{ واحد بعد از عدد } 2$$



$$\frac{2}{5} \text{ واحد بعد از عدد } 3$$



$$\frac{1}{4} \text{ واحد مانده به } 2$$



$$\frac{2}{3} \text{ واحد مانده به } 4$$

برای عبارت های زیر شکل بکشید و رنگ کنید. (با خط کش شابلون دار)

2 واحد ←

3 واحد ←

1 واحد و $\frac{1}{4}$ واحد ←

2 واحد و $\frac{2}{4}$ واحد ←

۱- کسر مربوط به قسمت رنگی هر شکل را بنویسید.



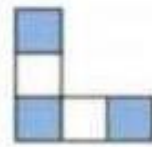
.....



.....



.....



.....

۲- در هر محور فلش، چه کسری را مشخص می کند.



..... واحد



..... واحد از عدد



..... واحد



..... واحد از عدد

۳- کسرهای زیر را روی شکل نشان دهید.

$$\frac{1}{3}$$

$$\frac{3}{6}$$

$$\frac{2}{5}$$

$$\frac{6}{9}$$

۴- عددهای خواسته شده را روی محور نشان دهید.

$$\frac{1}{2} \text{ واحد بعد از عدد } 3$$

$$\frac{4}{9} \text{ واحد بعد از عدد } 1$$



$$\frac{2}{5}$$

$$\frac{7}{10}$$

