

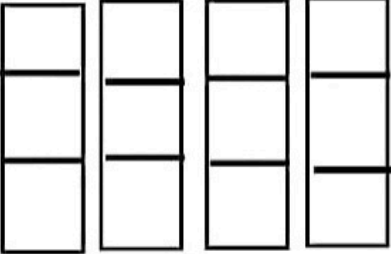
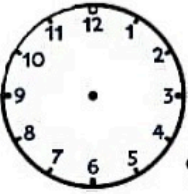
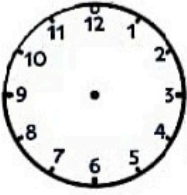
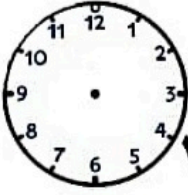
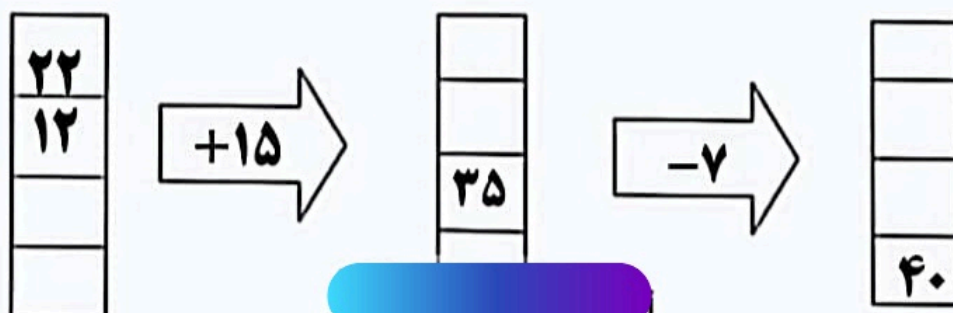


تاریخ:	به نام خدا	نام: نام خانوادگی:
	ارزشیابی ریاضی کلاس سوم	<p>۱ یک ساختمان ۶ طبقه دارد . در هر طبقه ۴ واحد قرار دارد. حالا بگویید ؛ تعداد کل واحدها چند تا است ؟ تا طبقه چهارم چند واحد می شود ؟</p>
<p>۲ الگوها را ادامه دهید .</p> <p>۲۲ - ۲۵ - ۲۸ --.....-.....</p> <p>۱۴۰ - ۱۵۰ - ۱۶۰ --.....-.....</p> 		
<p>۳ تعداد مربع را به کمک شمارش چند تا چند تا و جمع به دست آورید .</p> 		
	<p>۴ سعید هر سه شنبه به کلاس شنا می رود. امروز چهارم ماه هست . او چه روزهایی از این ماه را باید به کلاس برود؟</p>	
 <p>۱۴:۲۰</p>	 <p>۱۸:۱۰</p>	<p>۵ برای ساعت های داده شده عقربه مناسب بکش.</p>  <p>۲۲:۰۰</p>

۶- فروشنده ای یک شکلات را ۵۵۰ ریال می خرد و ۶۰۰ ریال می فروشد . حساب کن او با فروش ۵ شکلات چقدر سود می کند ؟

۷- دو ماشین را به هم بسته ایم . جاهای خالی را با عدد مناسب کامل کنید.

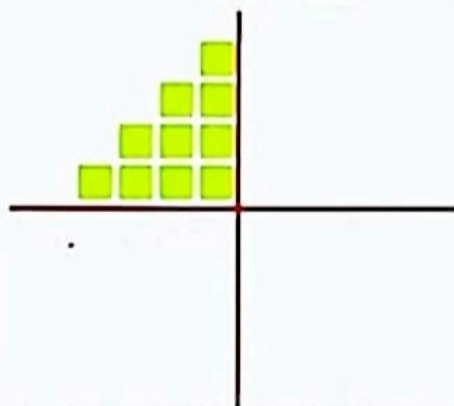


۸- جدول زیر را کامل کنید.

زمان	۱۹:۱۵		۱۴:۲۵	۲۰:۱۰
ساعت بعد از ظهر		۳:۲۰		

۹- نیمه ی دیگر شکل را با توجه به خط تقارن بکشید و سپس تعداد مربع ها را به

کمک خط تقارن پیدا کنید.



۱۰- قطاری ساعت ۷ صبح از تهران به سمت مشهد حرکت کرد و بعد از ۱۰ ساعت به مقصد رسید . قطار چه ساعتی به مشهد رسید ؟ به دو صورت بیان کنید .