

نام و نام خانوادگی..... به نام ایزد دانا  
 آزمون ریاضی کلاس سوم ۳

روز	۱						
شیر	۶						

۱ پدر علی در مغازه ی خود هر روز ۶ کیلو شیر می فروشد.  
 در ۷ روز چند کیلو شیر می فروشد؟  
 ۱۸ کیلو شیر را در چند روز می فروشد؟

۲ الگو های زیر را ادامه دهید.  
 ۳ - ۶ - ۹ - ۱۲ - ..... - ..... - ..... - ..... - .....  
 ۱ - ۴ - ۹ - ۱۶ - ..... - ..... - ..... - ..... - .....  
 ۴۵ - ۵۰ - ۵۵ - ..... - ..... - ..... - ..... - .....

۳ جاهای خالی را کامل کن

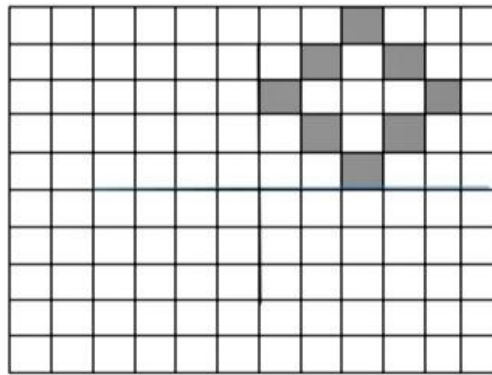


۴ محمد کلاس سوم است . روز اول او ۱۰ دقیقه مطالعه می کند . اگر او هر روز ۵ دقیقه بیشتر مطالعه کند ، پس از چند روز می تواند ۴۵ دقیقه مطالعه کند؟

روز	۱						
دقیقه	۱۰						

۵ امروز شنبه سوم آبان ماه است . تا آخر این ماه شنبه ها چه روز هایی هستند؟

۶ جمع های زیر را سعی کنید به صورت ذهنی انجام دهید .  
 $2 + 7 + 5 + 5 + 8 =$        $1 + 9 + 6 + 4 =$        $9 + 3 + 1 + 2 + 7 =$



۷ شکل را به صورت متقارن رنگ کن.


۸ جدول زیر را کامل کنید.

زمان	۱۶	۱۷:۱۵	۲۲ و ربع	
بعد از ظهر		۲:۲۵	۶:۳۰	

۹ شکل های زیر را دسته بندی کنید و سپس برای هر کدام الگوی شمارش و عبارت جمع بنویسید.

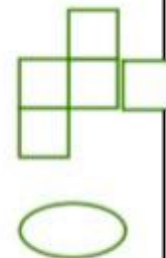
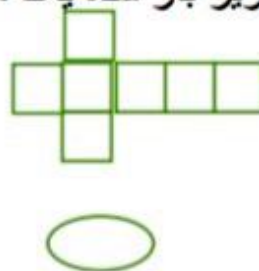
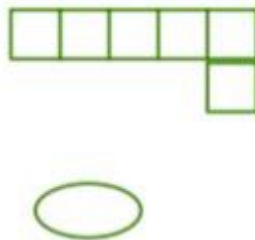
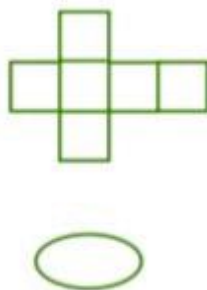


الگو : ..... ، ..... ، .....  
 جمع : ..... + ..... + .....



الگو :  
 جمع :

۱۰ کدام یک از شکل های زیر باز شده یک مکعب است؟



۱۱ خط تقارن شکل های زیر را بکشید.



۱۲ قطار ساعت ۸ صبح از خوی به طرف تهران حرکت می کند و پس از ۱۰ ساعت به تهران می رسد.  
این قطار چه زمانی به تهران می رسد؟ ( عملیات نوشته شود )

ساعت ..... یعنی ..... بعد از ظهر