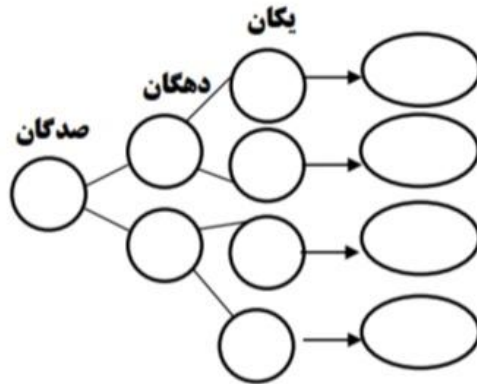
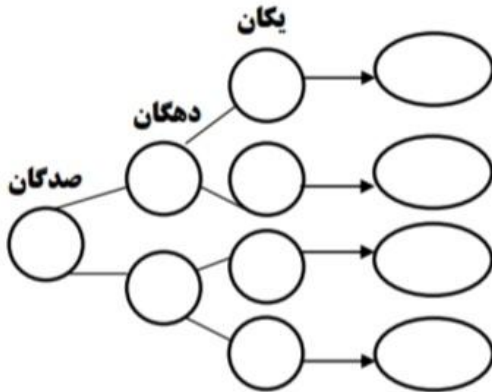
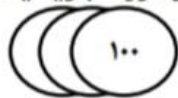


۱- همه ی عددهای سه رقمی را که رقم صدگان آن ها ۲ یا ۵ ، رقم دهگان آن ها ۱ یا ۶ و رقم یکان آن ها ۳ یا ۸ باشد ، بنویسید . جاهای خالی را پر کنید تا همه ی عددها به دست آیند .



۲- جدول های زیر را کامل کرده ، سپس آن را با عدد و حروف بنویسید .

یکان	دهگان	صدگان	هزارگان




به عدد : .....

به حروف : .....

یکان	دهگان	صدگان	هزارگان

به عدد : .....

به حروف : .....



۳- جاهای خالی را با دقت پر کن .

عدد ۵۳۲۱ یعنی ..... یکی ، ..... ده تایی ، ..... صد تایی و ..... هزار تایی

عدد ..... یعنی ۵ یکی ، ۴ صد تایی و ۳ هزار تایی .

۳۲۵ سانتی متر ..... متر و ..... سانتی متر است .

۴۰۰۰ متر چند کیلومتر است ؟ .....

۴- الگوهای عددی زیر را ادامه دهید .

۵۰۰۰   ۵۲۰۰   ۵۴۰۰        

۳۰۰۰   ۳۵۰۰   ۴۰۰۰        

        ۷۸۰۰   ۷۹۰۰   ۸۰۰۰

۹۴۱۰   ۹۴۲۰   ۹۴۳۰        

۵- باز شده ی هر عدد را بنویسید .

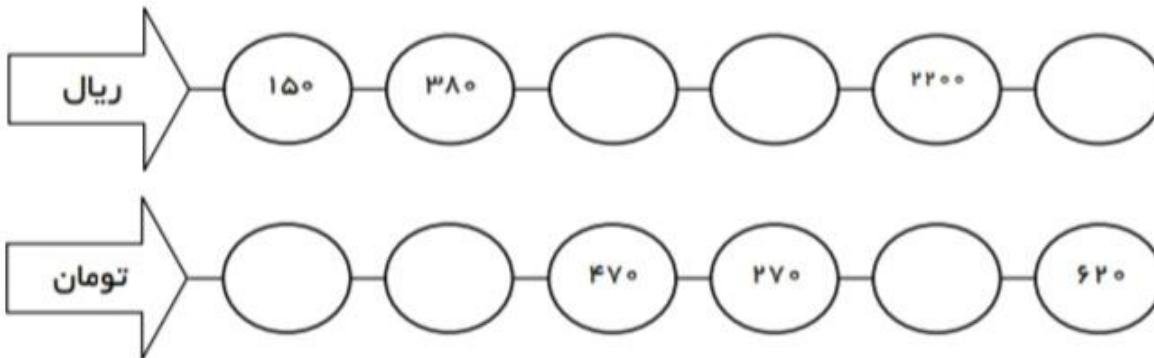
۷۱۱۰ =

۴۰۳۵ =

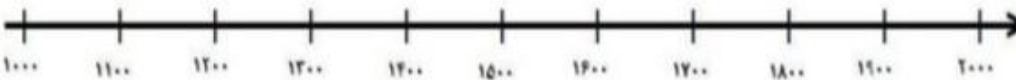
۹۷۰۰ =

۸۵۰۵ =

۶- با دقت جدول زیر را کامل کنید . اعدای که به ریال می باشند را به تومان بنویسید و اعدادی که به تومان می باشد را به ریال بنویسید .



۷- با توجه به محور ، عددهای داده شده را به صورت تقریبی روی محور نشان دهید .



۱۰۵۰ و ۱۱۷۰ و ۱۴۳۰ و ۱۶۸۵

۸- عدد ۴۸۱۲ چند رقمی است ؟

آن را به حروف بنویسید .  
 .....  
 عدد قبل و بعد از آن را مشخص کنید .  
 .....

۹- یک دلار کشور شکرستان ۱۲۰۰ تومان ارزش دارد . ۳ دلار این کشور چند تومان ارزش دارد ؟

۱۰- عددها را با هم مقایسه کنید.

۲۳۳۳ ○ ۲۵۱۱

۴۰۷۲ ○ ۴۰۷۰

۷۸۹۱ ○ ۱۹۹۹

۹۶۰۹ ○ ۹۰۰۹