

کتاب کار ریاضی

صفحه ی ۸۱

فعالیت کلاسی



مادر پریا و نرگس به هر کدام از آنها یک مقدار مساوی پول داد. پریا $\frac{1}{4}$ از پول‌های خود و نرگس $\frac{1}{5}$ پولش را خرج کرده است. با رسم شکل نشان بده کدام یک بیش‌تر پول خرج کرده است؟

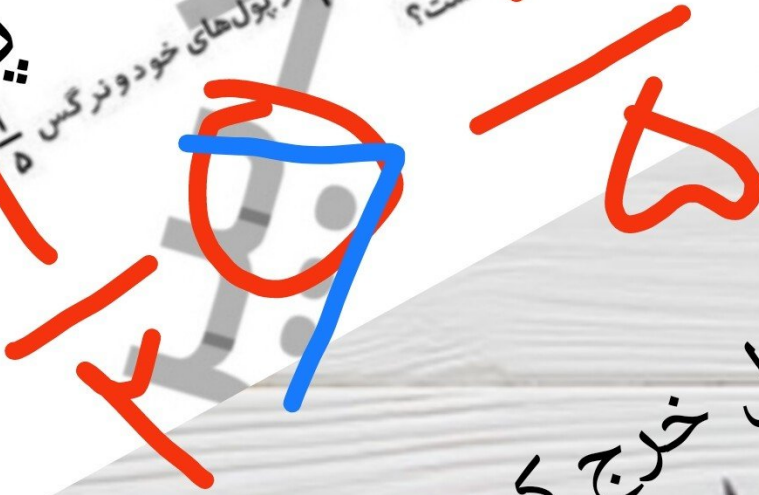
فعالیت کلاسی



مادر پریا و نرگس به هر کدام از آنها یک مقدار مساوی پول داد. پریا $\frac{1}{3}$ از پول های خود و نرگس $\frac{1}{5}$ پولش را خرج کرده است. با رسم شکل نشان بده کدام یک بیش تر پول خرج کرده است؟

پریا






نرگس



پریا بیش تر پول خرج کرده است.

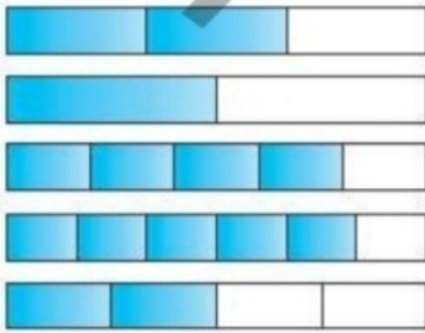


۲ با توجه به شکل‌های زیر در جاهای خالی علامت مناسب بگذار. ($<$, $=$, $>$)

	$\frac{1}{2} \square \frac{2}{3}$	$\frac{1}{2} \square \frac{4}{5}$	$\frac{2}{3} \square \frac{2}{4}$
	$\frac{2}{3} \square \frac{5}{6}$	$\frac{1}{2} \square \frac{2}{4}$	$\frac{2}{4} \square \frac{5}{6}$
	$\frac{1}{2} \square \frac{5}{6}$	$\frac{2}{3} \square \frac{4}{5}$	$\frac{2}{4} \square \frac{4}{5}$
			
			



۲ با توجه به شکل‌های زیر در جاهای خالی علامت مناسب بگذار. ($<$, $=$, $>$)



$$\frac{1}{2} < \frac{2}{3}$$

$$\frac{1}{2} < \frac{4}{5}$$

$$\frac{2}{3} > \frac{2}{4}$$

$$\frac{2}{4} < \frac{5}{6}$$

$$\frac{1}{2} = \frac{2}{4}$$

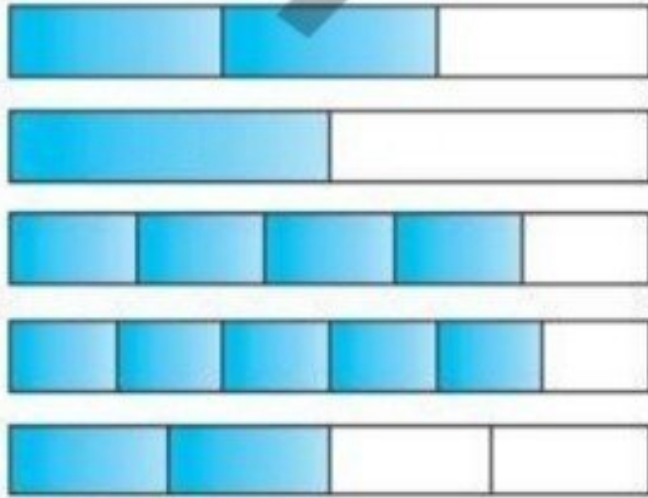
$$\frac{2}{4} < \frac{5}{6}$$

$$\frac{1}{2} < \frac{5}{6}$$

$$\frac{2}{3} < \frac{4}{5}$$

$$\frac{2}{4} < \frac{4}{5}$$

۲

با توجه به شکل‌های زیر در جاهای خالی علامت مناسب بگذار. ($<$, $=$, $>$)

$$\frac{1}{2} \square \frac{2}{3}$$

$$\frac{1}{2} \square \frac{4}{5}$$

$$\frac{2}{3} \square \frac{2}{4}$$

$$\frac{2}{4} \square \frac{5}{6}$$

$$\frac{1}{3} \square \frac{2}{4}$$

$$\frac{2}{4} \square \frac{5}{6}$$

$$\frac{1}{2} \square \frac{5}{6}$$

$$\frac{2}{4} \square \frac{4}{5}$$

$$\frac{2}{4} \square \frac{4}{5}$$

علامت مناسب بگذار. ($<$, $=$, $>$)

۲

پ: ۲ واحد و $\frac{5}{9}$ واحد $>$ ۲ واحد و $\frac{5}{7}$ واحدت: ۵ واحد و $\frac{3}{7}$ واحد $<$ ۵ واحد و $\frac{1}{7}$ واحدالف: ۳ واحد و $\frac{3}{7}$ واحد $<$ ۳ واحد و $\frac{2}{7}$ واحدب: ۱ واحد و $\frac{2}{6}$ واحد $>$ ۴ واحد و $\frac{2}{6}$ واحد

در کدام ساعت عقربه دقیقه شمار با ساعت شمار، زاویه راست درست کرده است؟

۴





در کدام ساعت هر یک از این شماره با ساعت شمار، زاویه راست درست کرده است؟

۴

۱ دقیقه

۱۴ دقیقه

۱۵ دقیقه

۱ دقیقه

۱۴ دقیقه

۱۵ دقیقه

تند (بسته)

راست (قائمه)

تند (بسته)

در شکل‌های زیر چند زاویه راست وجود دارد؟ ۵



در شکل‌های زیر چند زاویه راست وجود دارد؟ ۵




۷ زاویه راست




۸ زاویه راست

الگوی زاویه‌ها را ادامه بده.


۶




(۱)




(۲)



(۳)




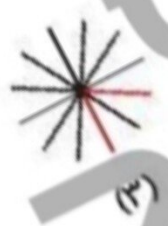
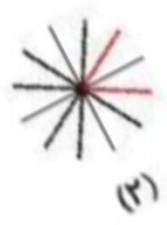
(۴)



(۵)

الگوی زاویه‌ها را ادامه بده.

۶




تمرین

زاویه های راست هر شکل را بشمار و به تعداد آن وصل کن. (هر عدد ممکن است به چند شکل وصل شود.)

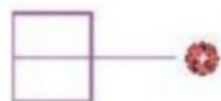
۱




۶



۴



۱۰



تمرین



۱) زاویه های راست هر شکل را بشمار و به تعداد آن وصل کن. (هر عدد ممکن است به چند شکل وصل شود.)

