

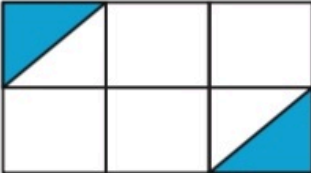
ارزشیابی فصل سوم



نام و نام خانوادگی:

تاریخ:

۱. چه کسری از شکل زیر رنگ شده است؟

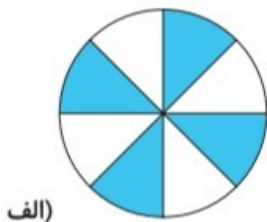


.....

۲. کشاورزی زمین خود را به ۲ قسمت تقسیم کرد و در یک قسمت آن هویج کاشت. سپس یک قسمت باقی مانده را به دو قسمت تقسیم کرد و در یک قسمت آن کاهو کاشت. چه کسری از زمین خالی مانده است؟ (با رسم شکل)

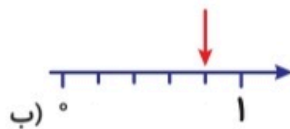
.....

۳. هر شکل چه کسری را نشان می‌دهد؟



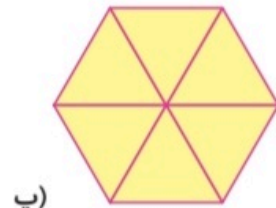
(الف)

.....



(ب)

.....



(پ)

.....

۴. هر عدد را روی محور نشان بده.



$\frac{2}{3}$ واحد بعد از عدد ۲

$\frac{1}{2}$ واحد مانده به عدد ۲

۵. با استفاده از پرگار یک دایره به شعاع ۲ سانتی‌متر بکش.

قطر این دایره چند میلی‌متر است؟





ارزشیابی فصل سوم

نام و نام خانوادگی:

تاریخ:

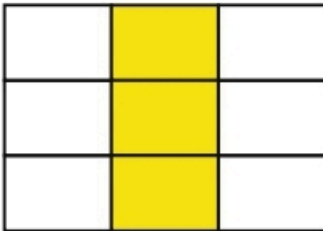
۶. جاهای خالی را پر کن.

الف) اگر نصف قطر دایره‌ای ۶ سانتی‌متر باشد، شعاع دایره میلی‌متر است.

ب) پرگار به اندازه‌ی دایره باز می‌شود.

پ) ساعت یک ربع به ۶ است، چه کسری از ساعت ۵ گذشته است؟

۷. برای این شکل ۲ کسر مساوی بنویس.



— = —

۸. پدر برنا و درنا به هر کدام از آن‌ها یک مقدار مساوی پول داد. برنا $\frac{1}{3}$ از پول خود و درنا $\frac{1}{5}$ پولش را خرج کرده

است. کدام یک پول بیشتری خرج کرده است؟

.....

جدول خودارزیابی



معیار	خیلی خوب	خوب	قابل قبول	نیاز به تلاش	ملاک
می‌توانم برای حل مسئله، شکل مناسب رسم کرده و حل کنم.	<input type="radio"/>	<input type="radio"/>	<input type="radio"/>	<input type="radio"/>	←
کسر را می‌شناسم و می‌توانم آن را به صورت‌های مختلف نشان دهم.	<input type="radio"/>	<input type="radio"/>	<input type="radio"/>	<input type="radio"/>	←
می‌توانم کسرهای مساوی با یک کسر بنویسم و با شکل نمایش دهم.	<input type="radio"/>	<input type="radio"/>	<input type="radio"/>	<input type="radio"/>	←
می‌توانم کسرهای با صورت و با مخرج مساوی را با هم مقایسه کنم.	<input type="radio"/>	<input type="radio"/>	<input type="radio"/>	<input type="radio"/>	←
مهارت لازم برای رسم دایره با پرگار و شعاع را دارم.	<input type="radio"/>	<input type="radio"/>	<input type="radio"/>	<input type="radio"/>	←