



عنوان

به نام خدا  
پیش دبستان و دبستان پسرانه  
(تعبه تهران شرق)

نام و نام خانوادگی:

# نمونه سوال مروری ریاضی ترم اول



۱- به عدد و حروف بنویسید.

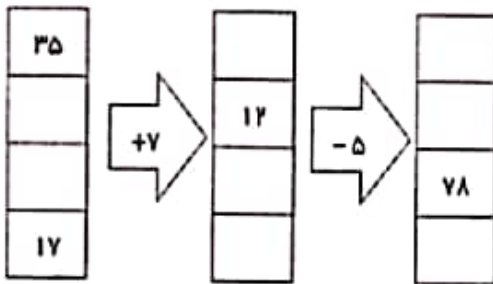
۷۸۷۶ = .....

هشت هزار و هفتاد .....

۲- جدول را کامل کنید.

زمان	۱۵			13:18	بیست و نیم	
بعد از ظهر		۶	02:15			هفت و ربع

۳- جاهای خالی را پر کنید.



۴- با رقم های ۳ و ۷ و ۰ و ۹ بزرگترین و کوچکترین عدد چهار رقمی را بنویسید.

بزرگترین



کوچکترین



۵- کسرهای زیر را مقایسه کنید.

$$\frac{4}{5} \bigcirc \frac{4}{7}$$

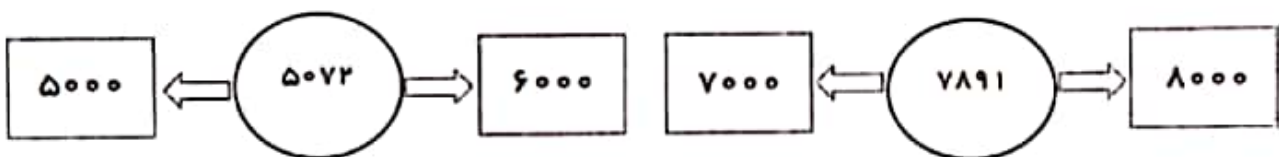
$$\frac{2}{6} \bigcirc \frac{3}{6}$$

$$\frac{7}{7} \bigcirc \frac{5}{5}$$

۵ واحد و  $\frac{4}{7}$  واحد  $\bigcirc$  ۵ واحد و  $\frac{4}{5}$  واحد

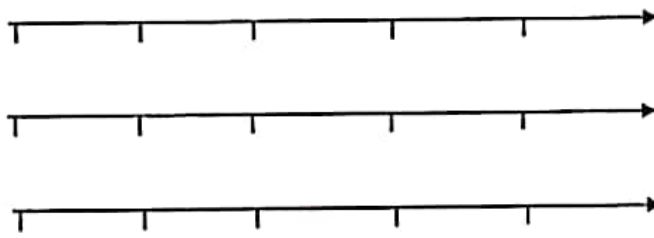
۲ واحد و  $\frac{1}{3}$  واحد  $\bigcirc$  ۳ واحد و  $\frac{1}{3}$  واحد

۶- عدد داخل دایره به کدام عدد در مربع ها نزدیک تر است؟ آن مربع را رنگ کنید.



آموزگار: مریم بهجتی

۷- کسر های زیر را روی محور نشان دهید.



$\frac{3}{4}$  واحد بعد از عدد ۲

$\frac{2}{3}$  واحد مانده به عدد ۴

$\frac{4}{5}$  واحد بعد از عدد ۱

۸- کامل کنید.

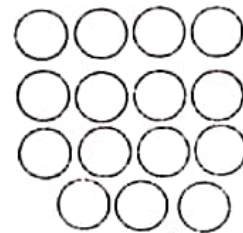

۳ کیلومتر و ۷۰ متر می شود..... متر

۶۲۳۰ گرم می شود..... کیلوگرم و..... گرم

۸۵۰ سانتی متر برابر است با..... متر و ..... سانتی متریا..... متر و ..... از متر

اندازه ی شعاع ..... قطر است و دایره ..... شعاع دارد.

۹- شکل های زیر را دسته بندی کنید و برای آن یک عبارت جمع و ضرب مناسب بنویسید.



عبارت جمع : \_\_\_\_\_

عبارت جمع : \_\_\_\_\_

ضرب : \_\_\_\_\_

ضرب : \_\_\_\_\_

۱۰- تساوی ضرب زیر را روی محور نشان دهید.

$$5 \times 3 = 3 \times 5$$



۱۱- کسر مساوی با  $\frac{3}{5}$  را با رسم شکل بنویسید.

$$\frac{3}{5} = \underline{\quad}$$

۱۲- ارزش ۱۱۰۰ لیره ی کشوری ۱۰ ریال ایران است.

۳ تومن ایران چند لیره ی آن کشور است؟

۱۳- یک مغازه دار هر جعبه مداد رنگی را ۵۰۰ تومن می خرد و آن را ۵۵۰ تومن می فروشد.

\* او چند جعبه مداد رنگی بفروشد تا ۲۰۰ تومن سود کند؟

\* چند جعبه مداد رنگی بفروشد تا با سود آن بتواند یک جعبه مداد رنگی بخرد؟

۱۴- پیمان ۴ جعبه ی مداد رنگی ۶ تایی و ۱۰ عدد مداد مشکی دارد. پیمان روی هم چند مداد دارد؟

۱۵- به سوالات زیر به روش نمادین سازی پاسخ بده.

الف- عددی را با ۱۳۰۰ جمع کردیم و حاصل ۱۵۰۰ شد آن عدد کدام است؟

ب- از عدد ۲۷۰ چند واحد برداریم تا ۱۹۰ به دست آید؟

موفق باشید

عزیزای دل خانم بهجتی