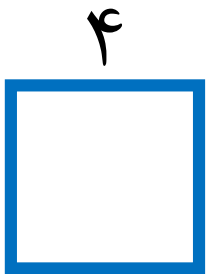

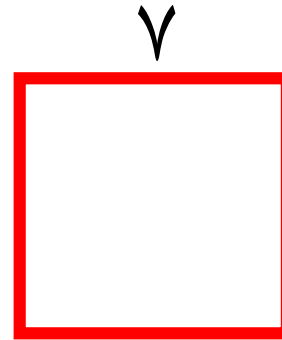


روش اول: $6 + 6 + 6 + 6 = 24$
 روش دوم: $4 \times 6 = 24$


مانند نمونه ی انجام شده، محیط مربع های زیر را هم با دو روش بنویسید.




روش اول:
 روش دوم:




روش اول:
 روش دوم:



روش اول:
 روش دوم:




روش اول:
 روش دوم:




روش اول: $3 + 7 + 3 + 7 = 20$

روش دوم: $(2 \times 3) + (2 \times 7) = 6 + 14 = 20$

روش سوم: $2 \times (3 + 7) = 20$




مانند نمونه ی انجام شده، محیط مستطیل های زیر را هم با سه روش بنویسید.



روش اول:

روش دوم:


روش سوم:



روش اول:

روش دوم:

روش سوم:



روش اول:

روش دوم:

روش سوم: