

نام و نام خانوادگی:

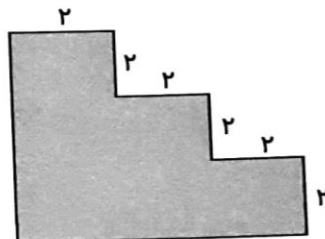
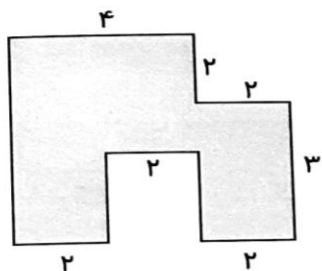
دبستان پسرانه ی علوی (شعبه مرکز)

موضوع: محیط

(اندازه‌ها به سانتی‌متر باشد.)

۱

با توجه به شکل، اندازه‌ی طول پاره‌خط‌های داده نشده را پیدا کن و بعد محیط هر شکل را به دست بیا



۲

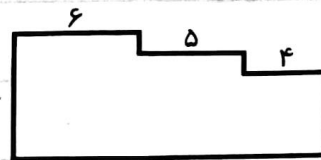
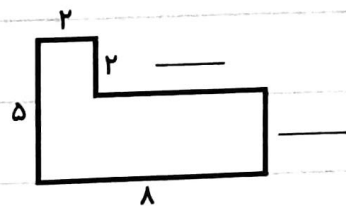
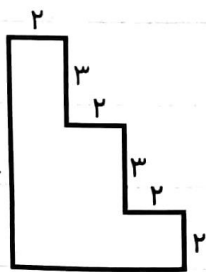
چگونه می‌توانی طول خط خمیده‌ی زیر را اندازه بگیری؟



چگونه می‌توان این اندازه‌گیری را دقیق‌تر انجام داد؟

۳

بعد از پیدا کردن اندازه‌ی همه‌ی ضلع‌ها، محیط شکل‌های زیر را به دست بیاور.



محیط = _____


محیط = _____

محیط = _____

۴

میزی به شکل مستطیل به طول ۸۰ و عرض ۶۰ سانتی‌متر داریم.

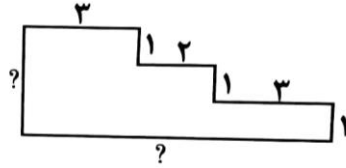
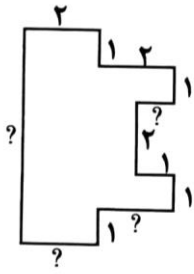
می‌خواهیم دور این میز را نوار فلزی بکوبیم. چند سانتی‌متر نوار لازم داریم؟



۵

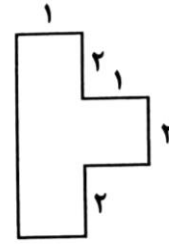
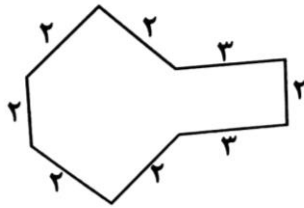
اگر اندازه‌ی محیط یک لوزی ۲۸ سانتی‌متر باشد، مجموع سه ضلع آن چه قدر است؟

۶ اندازه‌ی ضلع‌های موردنظر را به دست آورید و بنویسید.

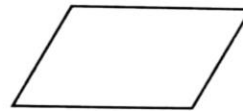
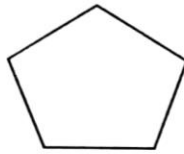
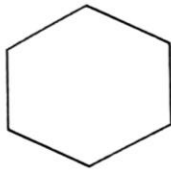


۷ محیط را تعریف کنید و محیط شکل‌های زیر را به دست آورید.

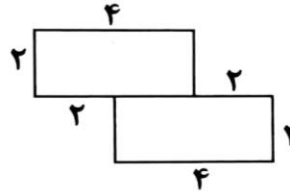
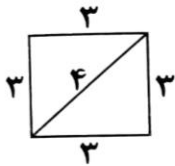
محیط:



۸ قطر شکل‌های زیر را رسم کنید و تعداد آن‌ها را بنویسید.



۹ محیط شکل‌های زیر را به دست آورید.



۱۰ دور تا دور یک زمین ورزشی را می‌خواهیم ۳ دور طناب‌کشی کنیم. اگر طول زمین مستطیل شکل ۲۸ متر و عرض آن ۱۴ متر باشد، چند متر طناب نیاز داریم؟

۱۱ قاب عکس جشن الفبای دانش‌آموزان کلاس اول به شکل مربع و به ضلع ۲۰ سانتی‌متر است. اگر بخواهیم دور تا دور قاب عکس را با روبان تزیین کنیم، چند سانتی‌متر روبان نیاز داریم؟ برای ۱۰ دانش‌آموز چند متر روبان نیاز داریم؟