

۱۵) طول ضلع های شکل های زیر را با خط کش اندازه بگیرید و سپس با نوشتن یک جمع محیط شکل ها را بدست آورید .

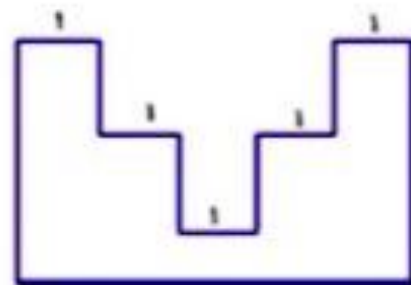
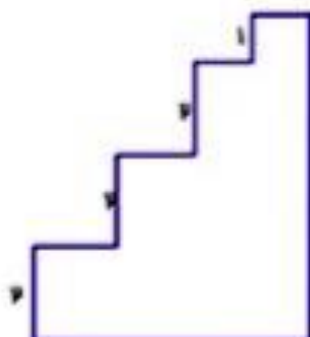
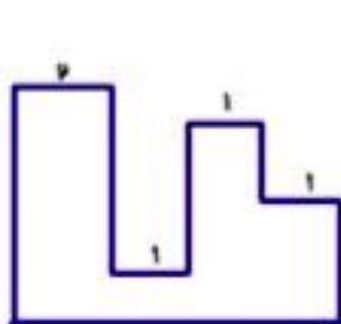


$$\text{محیط} = + + + + =$$

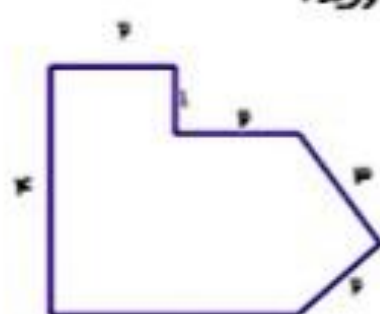
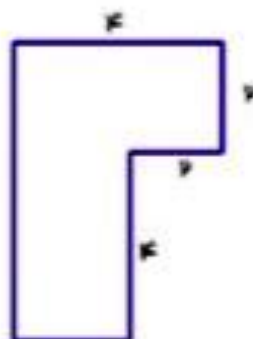
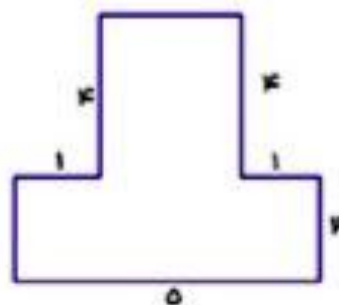


$$\text{محیط} = + + =$$

۱۶) با توجه به اندازه های داده شده طول پاره خط پرنگ شده را بدست آورید .



۱۷) ابتدا اندازه ی ضلع هایی را که داده نشده است را پیدا کنید. سپس با یک جمع محیط شکل ها را بدست آورید .



۱۸) به کمک ضرب محیط شکل ها را بدست آورید . (اندازه ی تمام ضلع ها در شکل ها مساوی است)

