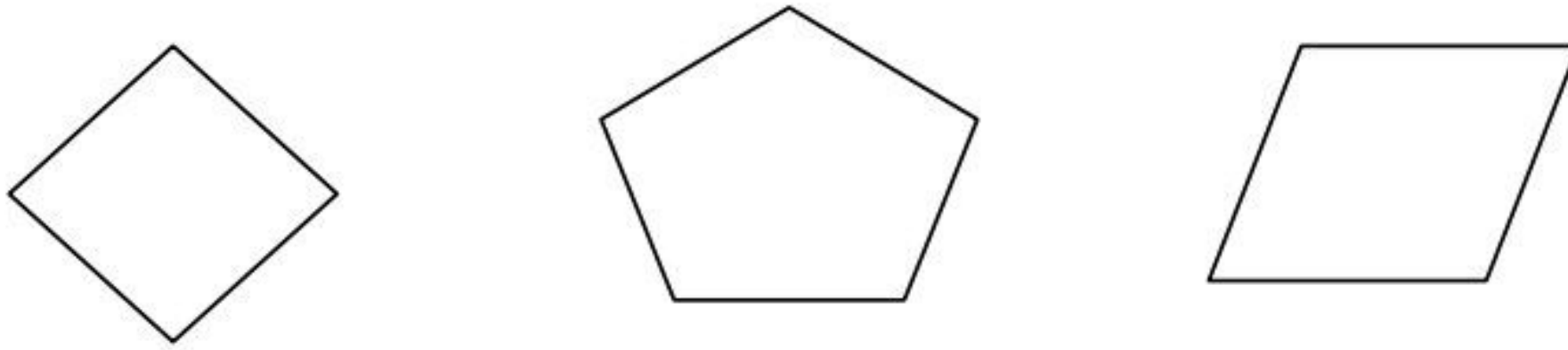


نام و نام خانوادگی :

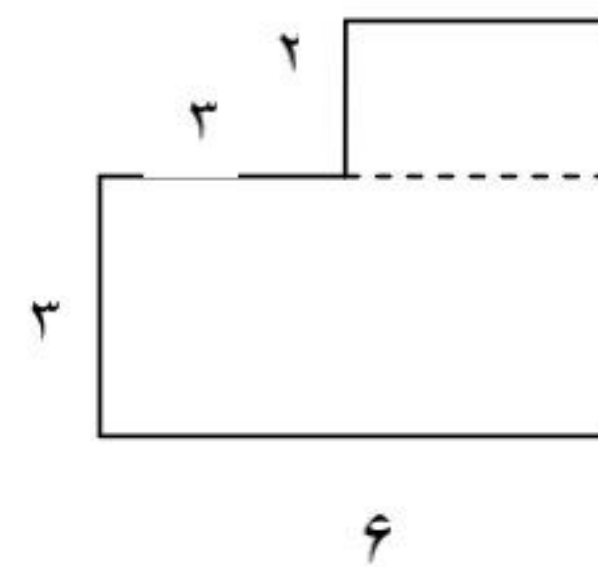
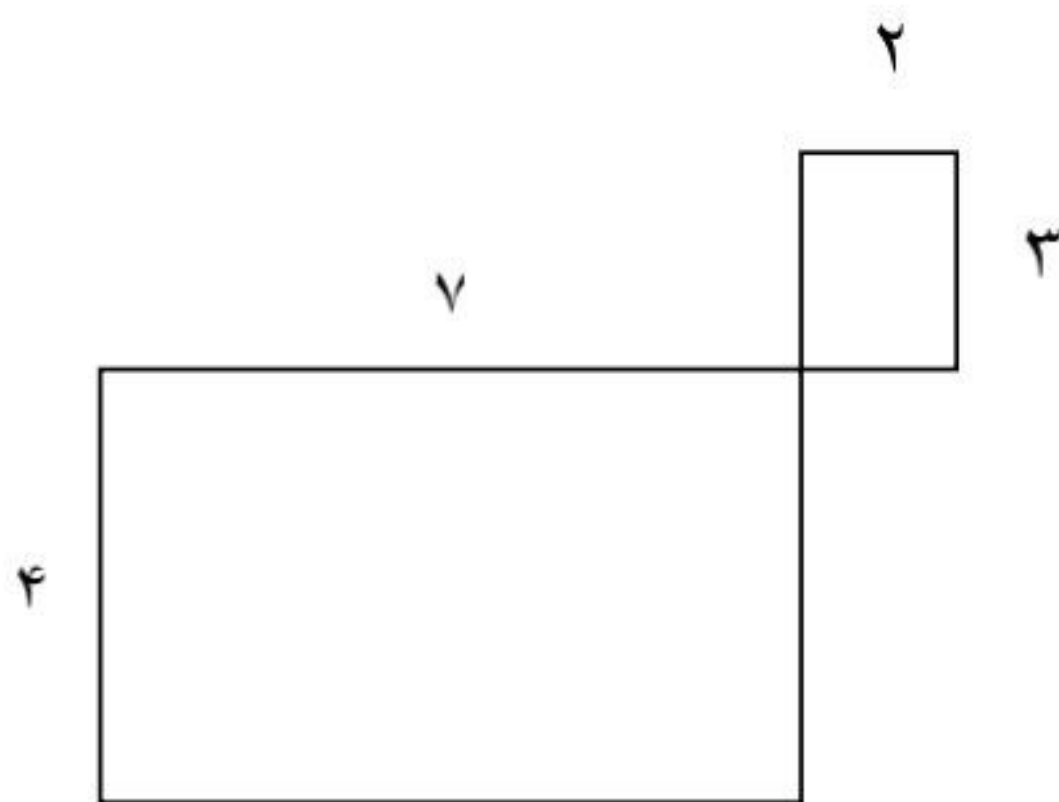

تکلیف منزل ، محیط و مساحت تاریخ :

۱ - قطرهای شکل های زیر را رسم کن.



۲ - مادر مریم ، می خواهد دور یک رومیزی را تور بدوزد. اگر این میز به شکل مربع باشد و هر ضلع این مربع ۳ متر باشد. چه قدر تور لازم دارد تا دور این رومیزی بدوزد؟

۳ - مساحت شکل های زیر را به دست آورید.



۴ - به دور هر شکل آن شکل می گویند.

۵- مساحت یک مستطیل به طول ۹ و عرض ۶ سانتی متر ، چند سانتی متر مربع است ؟

۶- مساحت یک مستطیل چگونه به دست می آید ؟

۷- مساحت یک مربع چگونه به دست می آید ؟

۸- مساحت یک مربع که هر ضلع آن ۸ سانتی متر باشد ، چند سانتی متر مربع است ؟

۹- مساحت یک مستطیل ۳۰ متر مربع است . اگر یک ضلع این مستطیل ۵ باشد ، ضلع دیگر

مستطیل چند است ؟

۱۰- مساحت قسمت رنگی را پیدا کن (برای به دست آوردن قسمت رنگی ، اول باید مساحت کل شکل

را پیدا کنی و بعد مساحت قسمت رنگ نشده را حساب کن ، سپس پاسخ ها را از هم کم کن)

