

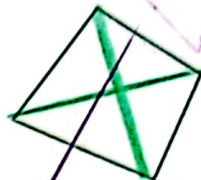
با توجه به سوال اول قطرهای رسم شده من فریم که با افزایش تعداد ضلع ما تعداد نظرهای شکل نیز

حل مسئله ی ساده تر افزایش پیدا می کند

۱- تعداد قطره های یک ۲۰ ضلعی بیشتر است یا یک ۱۹ ضلعی؟ تعداد قطرهای شکل ۲۰ ضلعی برای پاسخ دادن به این سوال بهتر است قطرهای سه ضلعی، چهار ضلعی، پنج ضلعی و شش ضلعی را رسم کنید. سپس برای مسئله ی اصلی پاسخ پیدا کنید.



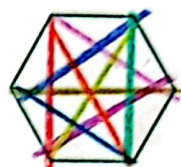
بدون قطر



۲ قطر

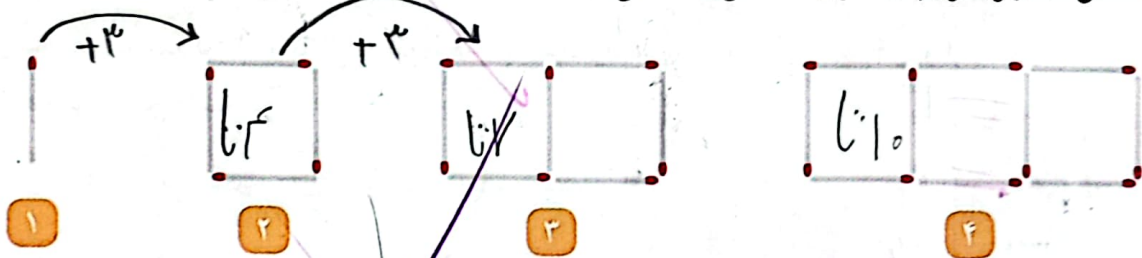


۵ قطر



۹ قطر

۲- شکل های زیر با ترتیب و الگوی مشخص ساخته می شوند.



اگر شکل دهم با ۲۸ چوب کبریت ساخته شود، شکل یازدهم با چند چوب کبریت ساخته می شود؟ آیا لازم است شکل دهم و یازدهم را بکشید؟

چوب کبریت ۲۱ = ۲۸ + ۳



شماره شکل	۱	۲	۳	۴	۵	۶	۷
تعداد چوب کبریت	۱	۴	۷	۱۰	۱۳	۱۶	۱۹

؟

خیر چون با توجه به شکل های بالا من فریم که الگوی افزایش ۳ تا ۳ تا داریم پس نیازی به رسم شکل نیست و فقط با اختلاف کردن ۳ چوب کبریت به چوب کبریت های شکل دهم یعنی ۲۸ عدد) می توانیم تعداد چوب کبریت های شکل یازدهم را حساب کنیم.

ساده کردن مسئله و «حل مسئله ی ساده تر» کمک می کند که الگوها و نظم های مسئله آشکار شوند تا به کمک آن ها بتوانیم پاسخ مسئله ی اصلی را پیدا کنیم.

