




نام و نام خانوادگی

تاریخ


موضوع:

هدف:

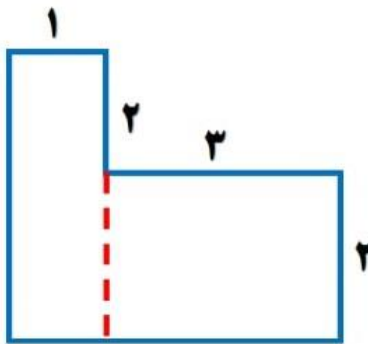
۱- محیط مربعی ۴۰ سانتی متر است. هر ضلع این مربع چند سانتی متر است؟
مساحت آن را پیدا کن.



۲- محیط و مساحت شکل زیر را حساب کنید.



۳- مساحت شکل زیر را پیدا کن.



۴- عرض مستطیلی ۴ سانتی متر و طول آن ۲ برابر عرض آن است. مساحت این مستطیل را پیدا کن.

بازخورد:

Four horizontal lines for writing feedback.

