




علوی

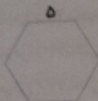
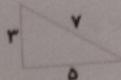
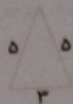
کتاب کار ریاضی

صفحه ی ۱۴۳



علوی

۴ محیط شکل‌های زیر را به دست بیاور.



۵ درنا ۶۵۰۰ تومان پول دارد. علی ۳۳۸۵ تومان کم‌تر از او دارد؟ علی چند تومان پول دارد؟ آن دو روی هم چقدر پول دارند؟

۶ دنیا در قشک خود ۳ اسکناس ۱۰۰۰ تومانی و یک اسکناس ۲۰۰۰ تومانی و ۵ اسکناس ۱۰۰ تومانی و ۳ سکه ۵۰۰ تومانی دارد. دنیا چند تومان پول دارد؟


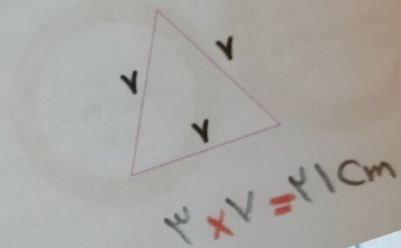
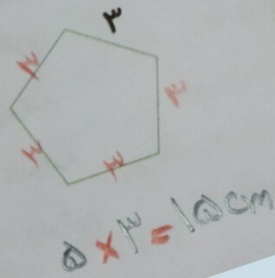
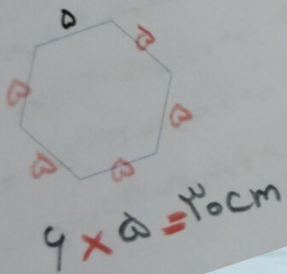
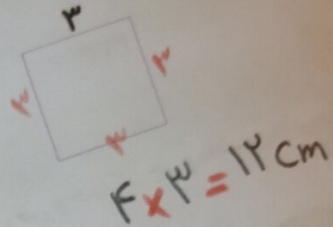
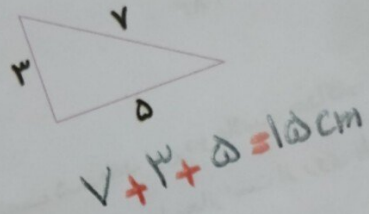
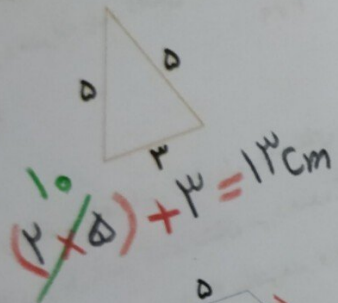
۷ درنا هر روز از پدرش ۱۰۰۰ تومان می‌گیرد و روزی ۵۰۰ تومان پس‌انداز می‌کند. او بعد از چند روز پس‌انداز می‌تواند یک روسری به قیمت ۷۵۰۰ تومان بخرد؟

۸ مساحت تهران تا مشهد ۹۴۰ کیلومتر است. قطار پس از طی ۳۶۵ کیلومتر برای صرف ناهار توقف کرد و بعد از طی مسافت ۲۸۷ کیلومتر دیگر مجدداً برای خواندن نماز صبح متوقف شد. این قطار چه قدر از مسیر را طی کرده است؟ چه قدر از مسیر باقی مانده است؟



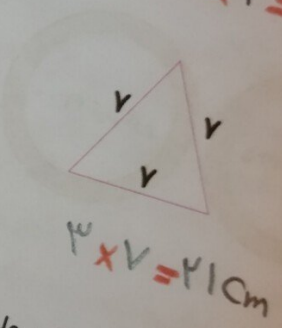
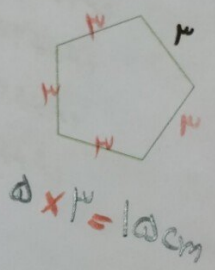
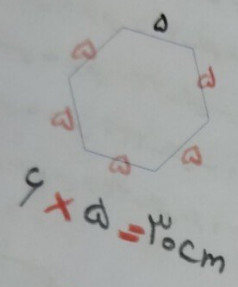
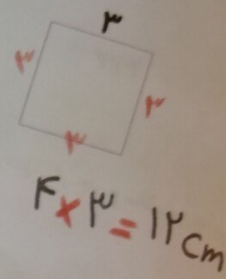
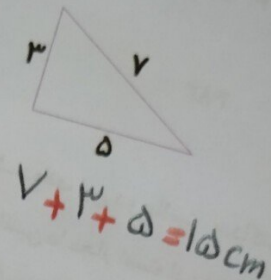
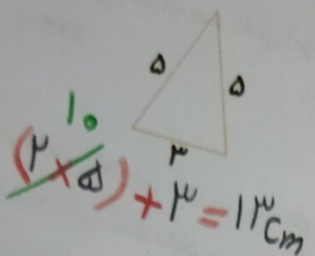
علوی

محیط شکل‌های زیر را به دست بیاور.



علوی

۴ محیط شکل های زیر را به دست بیاور.




۵ دُرنا ۶۵۰۰ تومان پول دارد. علی ۳۳۸۵ تومان کم تر از او دارد؟ علی چند تومان پول دارد؟ آن دوروی هم چقدر پول دارند؟


علی ۳۱۱۵ تومان پول دارد.

آن دوروی ۹۶۱۵ تومان پول دارند.

$$\begin{array}{r} 6500 \\ - 3385 \\ \hline 3115 \end{array}$$

$$\begin{array}{r} 6500 \\ + 3115 \\ \hline 9615 \end{array}$$





۵ دُرنا ۶۵۰۰ تومان پول دارد. علی ۳۳۸۵ تومان کم تر از او دارد؟ علی چند تومان پول دارد؟ آن دوروی هم چقدر پول دارند؟

$$\begin{array}{r}
 6500 \\
 - 3385 \\
 \hline
 3115
 \end{array}$$

علی ۳۱۱۵ تومان پول دارد.

۶ دنیا در قلک خود ۳ اسکناس ۱۰۰۰ تومانی و یک اسکناس ۲۰۰۰ تومانی و ۵ اسکناس ۱۰۰ تومانی و ۲ سکه ۵۰۰ تومانی دارد. دنیا چند تومان پول دارد؟

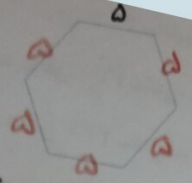
$$\begin{array}{r}
 3000 \\
 + 2000 \\
 + 500 \\
 + 200 \\
 \hline
 6500
 \end{array}$$

دنيا ۶۵۰۰ تومان پول دارد.


۷ درنا هر روز از پدرش ۱۰۰۰ تومان می گیرد و روزی ۵۰۰ تومان پس انداز می کند. او بعد از چند روز پس انداز می تواند یک روسری به قیمت ۷۵۰۰ تومان بخرد؟ او بعد از ۱۵ روز پس اندازی تواند روسری را بخرد.

روز	۱	۲	۳	۴	۵	۶	۷	۸	۹	۱۰	۱۱	۱۲	۱۳	۱۴	۱۵
پس انداز	۵۰۰	۱۰۰۰	۱۵۰۰	۲۰۰۰	۲۵۰۰	۳۰۰۰	۳۵۰۰	۴۰۰۰	۴۵۰۰	۵۰۰۰	۵۵۰۰	۶۰۰۰	۶۵۰۰	۷۰۰۰	۷۵۰۰






$$6 \times 5 = 30 \text{ cm}$$



$$5 \times 3 = 15 \text{ cm}$$



$$3 \times 7 = 21 \text{ cm}$$

۵ درنا ۶۵۰۰ تومان پول دارد. علی ۳۳۸۵ تومان کم تر از او دارد؟ علی چند تومان پول دارد؟ آن دوروی هم چقدر پول دارند؟

$$\begin{array}{r} 6500 \\ - 3385 \\ \hline 3115 \end{array}$$

علی ۳۱۱۵ تومان پول دارد.

$$\begin{array}{r} 6500 \\ + 3115 \\ \hline 9615 \end{array}$$

۶ دنیا در قلک خود ۳ اسکناس ۱۰۰۰ تومانی و یک اسکناس ۲۰۰۰ تومانی و ۵ اسکناس ۱۰۰ تومانی و ۲ سکه ۵۰۰ آن دوروی هم چقدر پول دارند؟

$$\begin{array}{r} 3 \times 1000 = 3000 \\ 1 \times 2000 = 2000 \\ 5 \times 100 = 500 \end{array}$$

$$2 \times 500 = 1000$$

$$3000 + 2000 + 1000 + 500 = 6500$$





۵ دُرنا ۶۵۰۰ تومان پول دارد. علی ۳۳۸۵ تومان کم‌تر از او دارد؟ علی چند تومان پول دارد؟ آن دوروی هم چقدر پول دارند؟

$$\begin{array}{r}
 6500 \\
 - 3385 \\
 \hline
 3115
 \end{array}$$

علی ۳۱۱۵ تومان پول دارد.

۶ دنیا در قشک خود ۳ اسکناس ۱۰۰۰ تومانی و یک اسکناس ۲۰۰۰ تومانی و ۵ اسکناس ۱۰۰ تومانی و ۳ سکه ۵۰۰ تومانی دارد. دنیا چند تومان پول دارد؟

تومان تومان تومان تومان

$$\begin{array}{r}
 3 \times 1000 = 3000 \\
 1 \times 2000 = 2000 \\
 5 \times 100 = 500 \\
 \hline
 3000 + 2000 + 500 = 5500
 \end{array}$$

دُنیا ۵۵۰۰ تومان پول دارد.

۷ درنا هر روز از پدرش ۱۰۰۰ تومان می‌گیرد و روزی ۵۰۰ تومان پس‌انداز می‌کند. او بعد از چند روز پس‌انداز می‌تواند یک روسری به قیمت ۷۵۰۰ تومان بخرد؟ او بعد از ۵ روز پس‌انداز می‌تواند روسری را بخرد.


روز	۱	۲	۳	۴	۵	۶	۷	۸	۹	۱۰	۱۱	۱۲	۱۳	۱۴	۱۵
پس‌انداز	۵۰۰	۱۰۰۰	۱۵۰۰	۲۰۰۰	۲۵۰۰	۳۰۰۰	۳۵۰۰	۴۰۰۰	۴۵۰۰	۵۰۰۰	۵۵۰۰	۶۰۰۰	۶۵۰۰	۷۰۰۰	۷۵۰۰

۸ مساحت تهران تا مشهد ۹۴۰ کیلومتر است. قطار پس از طی ۳۶۵ کیلومتر برای صرف ناهار توقف کرد و بعد از طی مسافت ۲۸۷ کیلومتر دیگر مجدداً برای خواندن نماز صبح متوقف شد. این قطار چه قدر از مسیر را طی کرده است؟ چه قدر از مسیر باقی مانده است؟

$$\begin{array}{r}
 940 \text{ km} \\
 - 365 \text{ km} \\
 \hline
 575 \text{ km} \\
 - 287 \text{ km} \\
 \hline
 288 \text{ km}
 \end{array}$$

۲۸۸ کیلومتر مسافت باقی مانده است.

جمع و تقریب \rightarrow فصل ششم ۱۴۳





دخترهای گلم خسته نباشید.

پایان

