

تفریق در جدول ارزش مکانی

فعالیت



۱- حمید ۶۶۴۷ ریال در قلک خود پول داشت. او ۲۳۲۵ ریال از پول هایش برداشت.
حالا چقدر پول دارد؟

ه	ص	د	ی
۶	۶	۴	۷
-۲	۳	۲	۵
۴	۳	۲	۲



چند سکه‌ی ۱ ریالی دارد؟ ۲ سکه
 چند سکه‌ی ۱۰ ریالی دارد؟ ۲ سکه
 چند سکه‌ی ۱۰۰ ریالی دارد؟ ۳ سکه
 چند سکه‌ی ۱۰۰۰ ریالی دارد؟ ۴ سکه

۲- حمید ۴۳۲۲ ریال در قلکش داشت. این هفته ۱۱۵۰ ریال از آن برداشت و خرج کرد.
حالا چقدر پول دارد؟

ه	ص	د	ی
۴	۳	۲	۲
-۱	۱	۵	۰
۳	۱	۷	۲

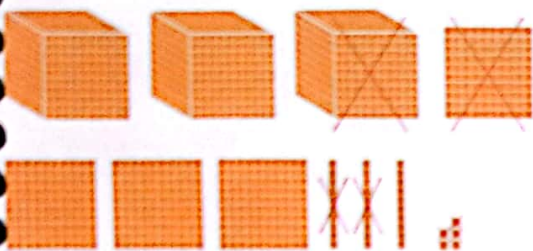
حمید چند سکه‌ی ۱ ریالی دارد؟ ۲ سکه
 آیا می‌تواند از سکه‌های ۱۰ ریالی خود ۵ تا بردارد؟ خیر
 اگر ۱ سکه‌ی ۱۰۰ ریالی را با ۱۰ سکه‌ی ۱۰ ریالی عوض کند، چند سکه‌ی ۱۰ ریالی خواهد داشت؟
۱۲ سکه
 حالا ۵ تا از سکه‌های ۱۰ ریالی را برمی‌دارد؛ چند سکه‌ی ۱۰ ریالی می‌ماند؟ ۷ سکه
 با توجه به اینکه یک سکه‌ی ۱۰۰ ریالی را برای تعویض با سکه‌های ۱۰ ریالی داده است، چند سکه‌ی ۱۰۰ ریالی
 برایش می‌ماند؟ ۲ سکه
 چند سکه‌ی ۱۰۰۰ ریالی دارد؟ ۳ سکه
 ۲- با توجه به شکل، تفریق را در جدول ارزش مکانی انجام دهید.

ه	ص	د	ی
۳	۳	۴	۴
۲	۱	۳	۲
۱	۲	۱	۲

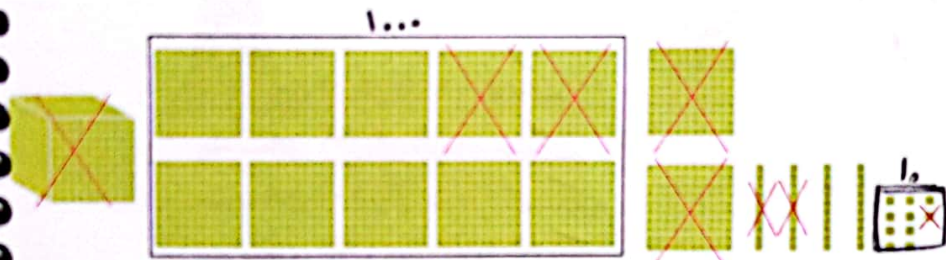




با توجه به شکل، حاصل تفریق‌ها را به دست آورید با برای تفریق‌های داده شده، شکل بکشید.



$$\begin{array}{r} 345 \\ - 1123 \\ \hline 2312 \end{array}$$



$$\begin{array}{r} 225 \\ - 1421 \\ \hline 829 \end{array}$$

یک دسته ۱۰۰۰ تایی که
به ۱۰ تا ۱۰۰ تایی تعریف شده است

$$\begin{array}{r} 2512 \\ - 1251 \\ \hline 1161 \end{array}$$




$$\begin{array}{r} 2451 \\ - 2356 \\ \hline 1103 \end{array}$$



۱- تعداد کل مربع‌ها را با نوشتن ضرب و جمع به دست آورید.

کامل کن



$$(2 \times 4) + (5 \times 3) = 8 + 15 = 23$$

۲- حاصل عبارت‌ها را به دست آورید.

$$4 \times (7+2) = 4 \times 9 = 36$$

$$(7-5) \times (8-2) = 2 \times 6 = 12$$

$$(2+5) \times 8 = 7 \times 8 = 56$$

$$(8+2) + (7 \times 5) = 10 + 35 = 45$$

تمرین



۱- همیشه از سمیه پرسید: «چقدر پول داری؟» سمیه گفت: «اگر ۱۷۵۰ تومان از پدرم بگیرم، پول هایم ۴۰۰۰ تومان می شود.» سمیه چقدر پول داشت؟

$$\begin{array}{r} 3 \quad 9 \\ 4 \quad 10 \\ - 1750 \\ \hline 2250 \end{array}$$

سمیه ۲۲۵۰ تومان پول داشت.

۲- قیمت پیراهنی که آرش می خواهد بخرد، ۸۹۰۰ تومان است. اگر او ۹ اسکناس ۱۰۰۰ تومانی به فروشنده بدهد، چقدر باید پس بگیرد؟

$$\begin{array}{r} 1 \\ - 9100 \\ \hline 8900 \\ 0100 \end{array}$$

۹۰۰۰ تومان

۱۰۰ تومان باید پس بگیرد.

۳- کوچک ترین عدد سه رقمی را از بزرگ ترین عدد ۴ رقمی کم کرده ایم؛ حاصل چند شده است؟

$$\begin{array}{r} 9999 \\ - 100 \\ \hline 9899 \end{array}$$

۹۹۹۹

۱۰۰

۴- با رقم های ۲، ۷، ۱، ۵ بزرگ ترین و کوچک ترین عدد ۴ رقمی را بسازید.


اختلاف این دو عدد را پیدا کنید.

$$\begin{array}{r} 4 \quad 11 \\ 7 \quad 5 \quad 2 \quad 1 \\ \hline 1 \quad 2 \quad 5 \quad 7 \\ 4 \quad 2 \quad 7 \quad 1 \end{array}$$

بزرگترین: ۷۵۲۱

کوچکترین: ۱۲۵۷

۵- ارتفاع قلّه ی توجال ۳۹۳۳ متر و قلّه ی دنا ۵۲۰۰ متر است. قلّه ی توجال چند متر از دنا کوتاه تر است؟



$$\begin{array}{r} 4 \quad 11 \quad 9 \\ 5 \quad 2 \quad 1 \\ - 3933 \\ \hline 1247 \end{array}$$

۶- حاصل تفریق ها را به دست آورید.

$$\begin{array}{r} 2291 \\ 3877 \\ - 1222 \\ \hline 1746 \end{array}$$

$$\begin{array}{r} 41 \\ 8052 \\ - 3027 \\ \hline 5023 \end{array}$$

$$\begin{array}{r} 7131 \\ 8167 \\ - 5205 \\ \hline 2825 \end{array}$$

$$\begin{array}{r} 11 \\ 770 \\ - 2170 \\ \hline 5130 \end{array}$$