


۱۷- در هر یک از شکل های زیر ضلع هایی که با یکدیگر موازی هستند را مشخص کنید .



۱۸- در جاهای خالی عدد مناسب بنویسید .

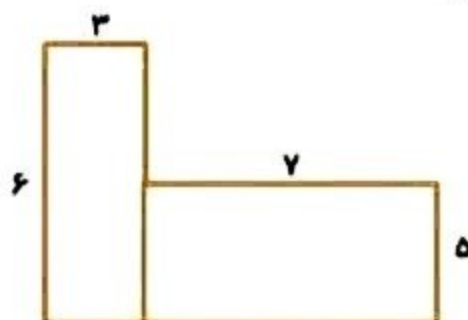
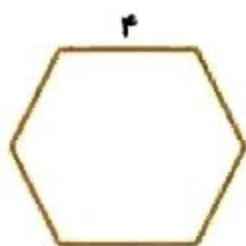
$$(36 \div 4) \times 5 =$$

$$(27 \div 3) + (3 \times 5) =$$

$$(15 + 3) \div (3 \times 2) =$$

$$(8 \times 6) - (9 \times 2) =$$

۱۹- محیط شکل های زیر را به دست آورید .



۲۰- مساحت شکل های زیر را به دست آورید .

