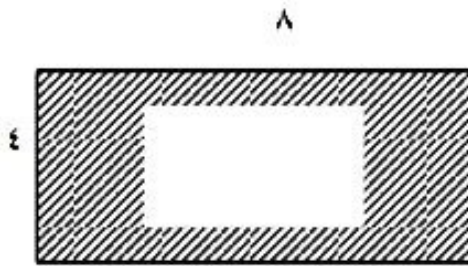
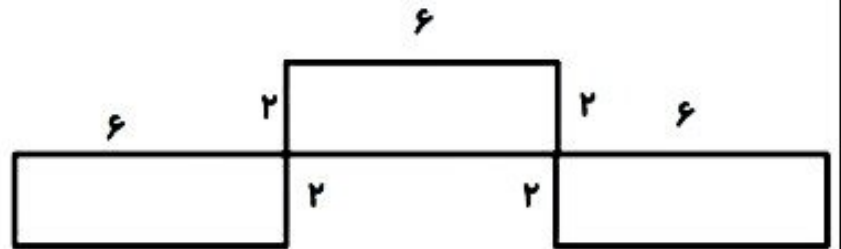
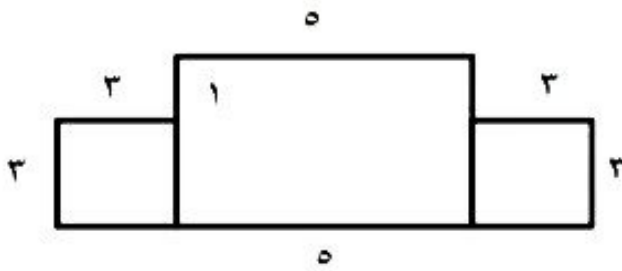


۷. اگر یک برگه ی کاغذ به طول ۳ و عرض ۲ سانتی متر وسط مقوای زیر بچسبانیم ، چند سانتی متر در اطراف کاغذ سفید مقوا دیده می شود ؟



۸. مساحت شکل های زیر را به دست آورید .



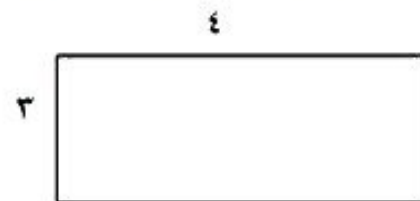
۹. مساحت و محیط شکل زیر را به دست آورید .




محیط شکل : .....

مساحت شکل : .....

۱۰. باغچه ای داریم به شکل مستطیل که عرض آن ۳ متر و طول آن ۴ برابر عرض است . می خواهیم دور این باغچه را نرده بکشیم به چند متر نرده نیاز داریم ؟



۱۱. اگر هر ضلع مربع ۲ سانتی متر باشد محیط قسمت رنگی چقدر است ؟



۲۸ (ب)

۲۴ (الف)

۱۲ (د)

۴۸ (ج)